

ΑΣΕΠ 2Γ/2022 - Εξετάσεις 2023
Θέμα 35

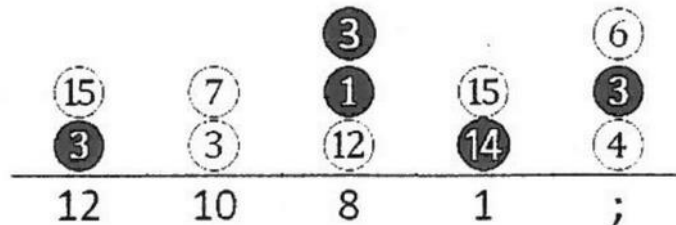
Να μελετήσετε το ακόλουθο μοτίβο και να βρείτε τον αριθμό ; που λείπει.

8 16 24 32 ;

- A. 64
- B. 42
- Γ. 48
- Δ. 40

Θέμα 36

Να μελετήσετε το ακόλουθο μοτίβο και να βρείτε τον αριθμό ; που λείπει.



- A. 13
- B. 10
- Γ. 3
- Δ. 7

Έξυπνα και Εύκολα!

Θέμα 37

Να μελετήσετε το ακόλουθο μοτίβο και να βρείτε τον αριθμό ; που λείπει.

3	10	5	2	18
7	25	10	10	37
<hr/>				
4	15	5	8	;

- A. 19
- B. 29
- Γ. 55
- Δ. 17

Θέμα 38

Να μελετήσετε το ακόλουθο μοτίβο και να βρείτε τον αριθμό ; που λείπει.

1 3 9 27 ;

- A. 39
- B. 81
- Γ. 36
- Δ. 45

Έξυπνα και Εύκολα!

Θέμα 39

Να μελετήσετε το ακόλουθο μοτίβο και να βρείτε τον αριθμό ; που λείπει.

20	10	30	6	7
4	5	2	5	;
85	55	65	35	54

Α. 8

Β. 6

Γ. 7

Δ. 9

Θέμα 40

Να μελετήσετε το ακόλουθο μοτίβο και να βρείτε τον αριθμό ; που λείπει.

10	30	10	8	7
5	2	3	5	5
<hr/>				
55	65	35	45	;

Α. 45

Β. 25

Γ. 40

Δ. 35

Έξυπνα και Εύκολα!

Θέμα 41

Να μελετήσετε το ακόλουθο μοτίβο και να βρείτε τον αριθμό ; που λείπει.

$\begin{array}{c} \textcircled{20} \\ \textcircled{4} \end{array}$	$\begin{array}{c} \textcircled{6} \\ \textcircled{18} \end{array}$	$\begin{array}{c} \textcircled{10} \\ \textcircled{2} \end{array}$	$\begin{array}{c} \textcircled{8} \\ \textcircled{2} \end{array}$	$\begin{array}{c} \textcircled{3} \\ \textcircled{18} \end{array}$
5	3	5	4	;

- A. 9
- B. 15
- Γ. 21
- Δ. 6

Θέμα 42

Να μελετήσετε το ακόλουθο μοτίβο και να βρείτε τον αριθμό ; που λείπει.

6	5	7	40	3
4	5	2	20	2
9	10	1	10	1
1	0	8	50	;

- A. 6
- B. 4
- Γ. 5
- Δ. 1

Έξυπνα και Εύκολα!

Θέμα 43

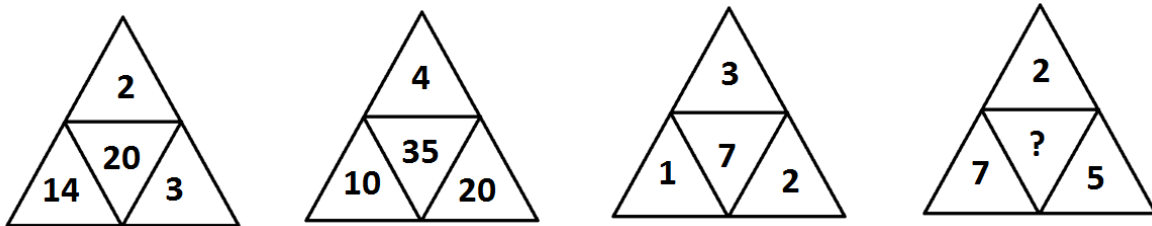
Να μελετήσετε το ακόλουθο μοτίβο και να βρείτε τον αριθμό ; που λείπει.

50 49 46 45 42 41 ;

- A. 40
- B. 39
- Γ. 37
- Δ. 38

Θέμα 44

Να μελετήσετε το ακόλουθο μοτίβο και να βρείτε τον αριθμό ? που λείπει.

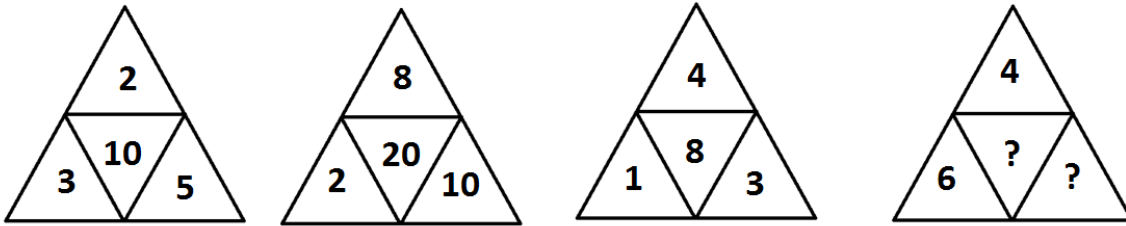


- A. 14
- B. 10
- Γ. 15
- Δ. 16

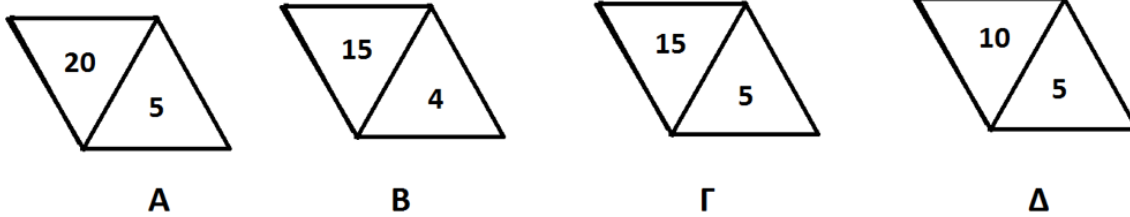
Έξυπνα και Εύκολα!

Θέμα 45

Να μελετήσετε το ακόλουθο μοτίβο



και να βρείτε τους αριθμούς ? που λείπουν.


Θέμα 46

Να μελετήσετε το ακόλουθο μοτίβο και να βρείτε τον αριθμό ; που λείπει.

7	20	16	3
3	5	4	2
20	50	40	;

- A. 5
- B. 10
- Γ. 20
- Δ. 6

Έξυπνα και Εύκολα!

Θέμα 47

Να μελετήσετε το ακόλουθο μοτίβο και να βρείτε τον αριθμό ; που λείπει.

16	4	2	18
6	4	5	5
7	6	3	10
5	3	;	6

Α. 2

Β. 1

Γ. 4

Δ. 3

Θέμα 48

Να μελετήσετε το ακόλουθο μοτίβο και να βρείτε τον αριθμό ; που λείπει.

16	13	21	8	3
5	5	4	7	;
42	36	50	30	20

Α. 17

Β. 15

Γ. 23

Δ. 7

Θέμα 49

Να μελετήσετε το ακόλουθο μοτίβο και να βρείτε τους αριθμούς ; που λείπουν.

57 57 44 44 31 31 18 ; ;

Α. 18 και 18

Β. 18 και 7

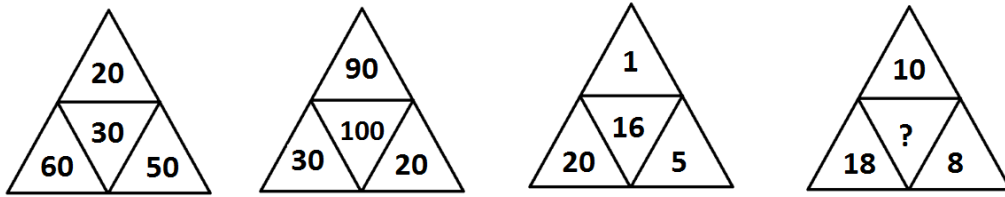
Γ. 18 και 5

Δ. 18 και 15

Έξυπνα και Εύκολα!

Θέμα 50

Να μελετήσετε το ακόλουθο μοτίβο και να βρείτε τον αριθμό ? που λείπει.



- A. 18
- B. 26
- Γ. 16
- Δ. 20

Θέμα 51

Να μελετήσετε το ακόλουθο μοτίβο και να βρείτε τους αριθμούς ; που λείπουν.

18	14	11	30	;
6	7	5	10	;
11	6	5	19	;

35	30	30	30
15	15	16	14
20	16	14	15
A	B	Γ	Δ

Έξυπνα και Εύκολα!

Θέμα 52

Να μελετήσετε το ακόλουθο μοτίβο και να βρείτε τον αριθμό ; που λείπει.

5	10	7	6	16	2
9	19	13	11	31	;

- A. 3
- B. 7
- Γ. 5
- Δ. 9

Θέμα 53

Να μελετήσετε το ακόλουθο μοτίβο και να βρείτε τον αριθμό ; που λείπει.

20	60	20	70	30
10	20	40	30	40
16	41	31	51	;

- A. 31
- B. 71
- Γ. 36
- Δ. 61

Θέμα 54

Να μελετήσετε το ακόλουθο μοτίβο και να βρείτε τον αριθμό ; που λείπει.

5	5	8	9
12	8	10	15
3	10	1	7
13	7	30	25
14	4	6	;

- A. 12
- B. 15
- Γ. 5
- Δ. 24

Έξυπνα και Εύκολα!

Θέμα 55

Να μελετήσετε το ακόλουθο μοτίβο και να βρείτε τον αριθμό ; που λείπει.

6	20	17	5	40
8	10	3	5	;
7	15	10	5	30

- A. 10
- B. 30
- Γ. 35
- Δ. 20

Θέμα 56

Να μελετήσετε το ακόλουθο μοτίβο και να βρείτε τον αριθμό ; που λείπει.

⓪ 8	⓪ 10	⓪ 10	⓪ 15	⓪ 3
⓪ 4	⓪ 1	⓪ 2	⓪ 1	⓪ 5
16	21	14	17	;

- A. 13
- B. 11
- Γ. 8
- Δ. 15

Θέμα 57

Να μελετήσετε το ακόλουθο μοτίβο και να βρείτε τον αριθμό ; που λείπει.

10 13 7 16 4 19 1 ;

- A. 22
- B. 7
- Γ. 21
- Δ. 10

Έξυπνα και Εύκολα!

Θέμα 58

Να μελετήσετε το ακόλουθο μοτίβο και να βρείτε τον αριθμό ; που λείπει.

10	22	40	70	30
1	2	10	20	;
18	40	60	100	50

Α. 22

Β. 15

Γ. 5

Δ. 20

Θέμα 59

Να μελετήσετε το ακόλουθο μοτίβο και να βρείτε τον αριθμό ; που λείπει.

9	5	10	10	7
2	3	9	10	2
<hr/>				
11	8	83	93	;

Α. 9

Β. 7

Γ. 10

Δ. 73

Έξυπνα και Εύκολα!

Θέμα 60

Να μελετήσετε το ακόλουθο μοτίβο και να βρείτε τον αριθμό ; που λείπει.

48	10	60	4	26	18
25	6	31	3	14	;

- A. 9
- B. 8
- Γ. 12
- Δ. 10

Θέμα 61

Να μελετήσετε το ακόλουθο μοτίβο και να βρείτε τον αριθμό ; που λείπει.

5	9	9	14	8
4	3	7	5	3
6	2	4	6	4
<hr/>				
7	8	6	15	;

- A. 8
- B. 7
- Γ. 15
- Δ. 9

Έξυπνα και Εύκολα!

Θέμα 62

Να μελετήσετε το ακόλουθο μοτίβο και να βρείτε τον αριθμό ; που λείπει.

8	4	;
3	72	24
2	18	9

Α. 36

Β. 38

Γ. 34

Δ. 46

Θέμα 63

Να μελετήσετε το ακόλουθο μοτίβο και να βρείτε τον αριθμό ; που λείπει.

5	20	25	10	15
11	61	101	51	;

Α. 91

Β. 71

Γ. 81

Δ. 76

Έξυπνα και Εύκολα!

Θέμα 64

Να μελετήσετε το ακόλουθο μοτίβο και να βρείτε τον αριθμό ; που λείπει.

14	32	8	10
9	20	5	6
3	6	2	1
4	;	8	16

- A. 4
- B. 32
- Γ. 24
- Δ. 28

Θέμα 65

Να μελετήσετε το ακόλουθο μοτίβο και να βρείτε τους αριθμούς ; που λείπουν.

42	4	5	6	7	20
16	6	2	3	8	18
24	6	;	;	4	12
20	4	5	9	3	27

- A. 4 και 3
- B. 3 και 3
- Γ. 3 και 4
- Δ. 6 και 4

Έξυπνα και Εύκολα!

Θέμα 66

Να μελετήσετε το ακόλουθο μοτίβο και να βρείτε τον αριθμό ; που λείπει.

5	10	7	6	20	8
14	29	20	17	59	;

- A. 19
- B. 20
- Γ. 23
- Δ. 27

Θέμα 67

Να μελετήσετε το ακόλουθο μοτίβο και να βρείτε τον αριθμό ; που λείπει.

4	6	10	7	5	3
12	30	90	42	20	;

- A. 8
- B. 9
- Γ. 6
- Δ. 5

Θέμα 68

Να μελετήσετε το ακόλουθο μοτίβο και να βρείτε τον αριθμό ; που λείπει.

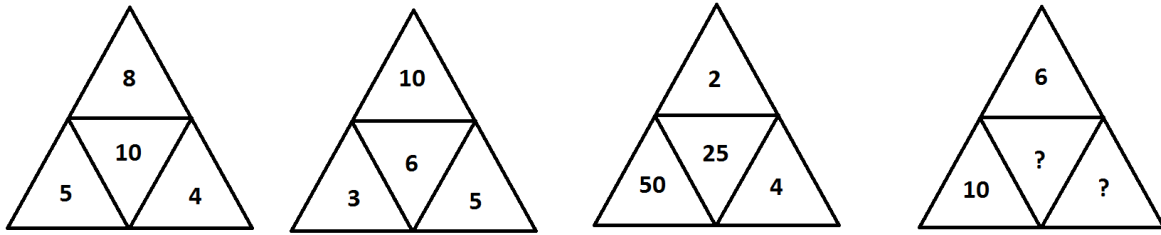
4	13	12	20	37	11
6	7	18	20	13	;

- A. 39
- B. 44
- Γ. 60
- Δ. 49

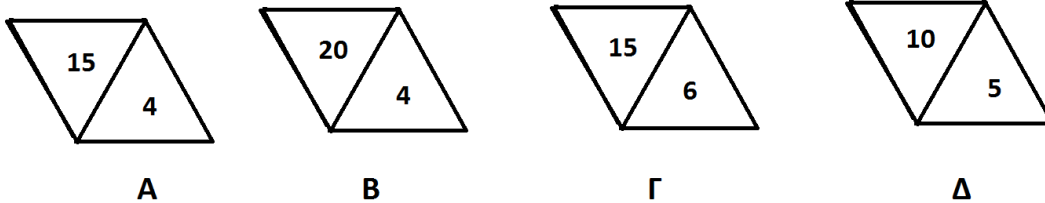
Έξυπνα και Εύκολα!

Θέμα 69

Να μελετήσετε το ακόλουθο μοτίβο



και να βρείτε τους αριθμούς ? που λείπουν.


Θέμα 70

Να μελετήσετε το ακόλουθο μοτίβο και να βρείτε τους αριθμούς ; που λείπουν.

30	15	16	4	15	20
25	20	5	20	10	30
10	15	7	3	25	40
20	;	;	7	13	10

- Α. 13 και 3
 Β. 3 και 7
 Γ. 7 και 13
 Δ. 7 και 3

Έξυπνα και Εύκολα!

Θέμα 71

Να μελετήσετε το ακόλουθο μοτίβο και να βρείτε τον αριθμό ; που λείπει.

9	5	17	100	8
3	5	2	0	2
<hr/>				
27	25	34	115	;

Α. 16

Β. 25

Γ. 10

Δ. 30

Θέμα 72

Να μελετήσετε το ακόλουθο μοτίβο και να βρείτε τον αριθμό ; που λείπει.

7	2	10	8	20
16	18	8	2	2
2	5	7	15	;

Α. 5

Β. 6

Γ. 3

Δ. 4

Έξυπνα και Εύκολα!

Θέμα 73

Να μελετήσετε το ακόλουθο μοτίβο και να βρείτε τον αριθμό ; που λείπει.

30	60	20
90	10	70
50	;	40

Α. 40

Β. 80

Γ. 100

Δ. 90