













ΣΤ' ΤΑΞΗ

52. Όσο - όσο ...

(Μετρώ την αξία με χρήματα)

Όνομα:

1. Συμπληρώστε τον παρακάτω πίνακα:

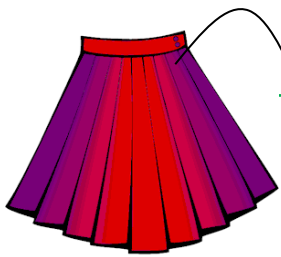
ΧΡΗΜΑΤΙΚΗ ΑΞΙΑ ΠΟΛΛΩΝ ΑΝΤΙΚΕΙΜΕΝΩΝ	ΧΡΗΜΑΤΙΚΗ ΑΞΙΑ ΕΝΟΣ ΑΝΤΙΚΕΙΜΕΝΟΥ
 = 2€ 85λ.	 =
 = 4€ 68λ.	 =
 = 77€ 30λ.	 =
 = 63€	 =
 = 5€ 40λ.	 =
 = 12€ 87λ.	 =

2. Ο Νίκος πήρε δάνειο από την τράπεζα για να αγοράσει αυτοκίνητο. Η αξία του δανείου ήταν 20.000 € με επιτόκιο 8% το χρόνο . Πόσο θα πληρώσει έπειτα από δύο χρόνια;



ΛΥΣΗ


3. Η Νικολέττα θέλει να κάνει μια διαδικτυακή αγορά ρούχων και αξεσουάρ, όμως οι τιμές τους είναι αναρτημένες σε δολάρια. Θα της φτάσουν τα 160€ που έχει διαθέσιμα στην τραπεζική κάρτα της; (1€=1,12\$)



28 \$

ΛΥΣΗ

62,72 \$



48,16 \$

33,6\$

