


# Ε' ΤΑΞΗ


## 2. ΥΠΕΝΘΥΜΙΣΗ - Β' ΜέρΟΣ

Όνομα: .....



1. Να σχεδιάσετε:

- ✓ ένα παραλληλόγραμμο
- ✓ ένα ορθογώνιο παραλληλόγραμμο
- ✓ ένα τετράγωνο
- ✓ έναν ρόμβο



→ Ποιο/ποια από τα παραπάνω σχήματα:

- \* έχει τις απέναντι πλευρές παράλληλες;

.....

- \* έχει όλες τις πλευρές του ίσες;

.....

\* είναι παραλληλόγραμμο και έχει μία ορθή γωνία;

.....


\* είναι και ορθογώνιο και ρόμβος;

.....

\* είναι παραλληλόγραμμο και έχει τις διαδοχικές πλευρές ίσες

.....

2. Να συμπληρώσετε τον παρακάτω πίνακα.


ΣΧΗΜΑ	ΠΛΕΥΡΑ α	ΠΛΕΥΡΑ β	ΠΕΡΙΜΕΤΡΟΣ	ΕΜΒΑΔΟΝ
	3 εκ.		24 εκ.	
		—		16 τ.εκ.
		7 εκ.		28 τ.εκ.
		—	32 εκ.	

3. Η κυρία Μαργαρίτα γεννήθηκε στις 26 Απριλίου 1992. Ποια είναι η ακριβής ηλικία της σήμερα;



ΛΥΣΗ

4. Υπολογίστε την περίμετρο και το εμβαδόν του παρακάτω σχήματος.  
 Ύστερα χαράξτε άξονα συμμετρίας και σχεδιάστε το συμμετρικό του.  
 Τι εμβαδόν και τι περίμετρο έχει ολόκληρο το νέο σχήμα που προέκυψε;



ΛΥΣΗ

5. Ένα φορτηγό μεταφέρει 35 τόνους χώμα. Αν το μικτό βάρος τους είναι 67.500 κιλά να υπολογίσετε πόσο ζυγίζει μόνο του το φορτηγό.

ΛΥΣΗ

ΜΙΚΤΟ ΒΑΡΟΣ	ΚΑΘΑΡΟ ΒΑΡΟΣ	ΑΠΟΒΑΡΟ

