

**1η Άσκηση**

Η Δανάη στρογγυλοποίησε τους παρακάτω αριθμούς. Να παρατηρήσεις τον πίνακα και να συμπληρώσεις σε ποιο ψηφίο έγινε η στρογγυλοποίηση:



Αριθμός	Αριθμός μετά τη στρογγυλοποίηση	Ψηφίο στο οποίο έγινε η στρογγυλοποίηση
15,987	15,99	
100,923	101	
0,341	0,34	
502,623	502,6	

**2η Άσκηση**

Η Δανάη, ο Νίκος και η Αγγελική στρογγυλοποίησαν σε διαφορετικό ψηφίο ο καθένας τον ίδιο δεκαδικό αριθμό που είχε τρία δεκαδικά ψηφία. Μετά τη στρογγυλοποίηση κάθε παιδί έγραψε τον δικό του δεκαδικό αριθμό. Ποιος μπορεί να είναι ο δεκαδικός αριθμός στον οποίο έγινε η στρογγυλοποίηση;

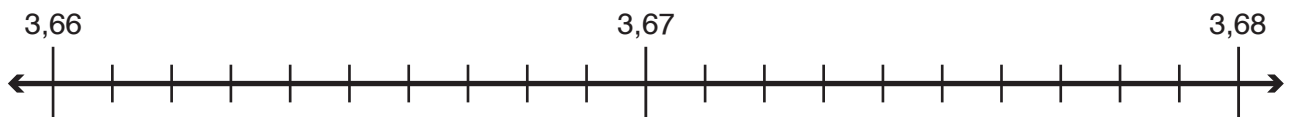
	Αριθμός μετά τη στρογγυλοποίηση	Ψηφίο στο οποίο έγινε η στρογγυλοποίηση
Δανάη	134	μονάδα
Νίκος	134,3	δέκατα
Αγγελική	134,28	εκατοστά



.....  
 .....

**3η Άσκηση**

Να τοποθετήσεις τον δεκαδικό αριθμό 3,669 στην παρακάτω αριθμογραμμή και να τον στρογγυλοποιήσεις στα εκατοστά με τη βοήθεια της αριθμογραμμής. Να δικαιολογήσεις την απάντησή σου.



.....  
 .....

4η Άσκηση

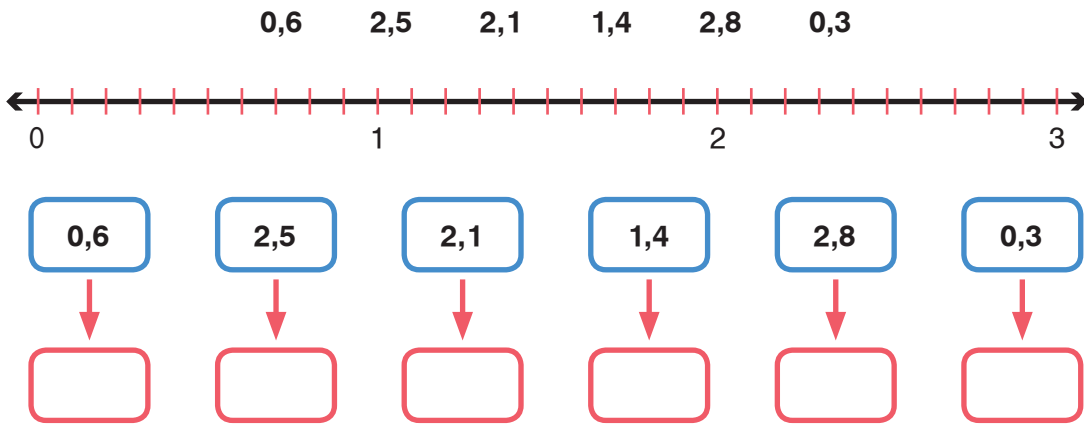


Να βοηθήσεις τη Δανάη να στρογγυλοποιήσει τον αριθμό:

- > στις μονάδες: .....
- > στα δέκατα: .....
- > στα εκατοστά: .....

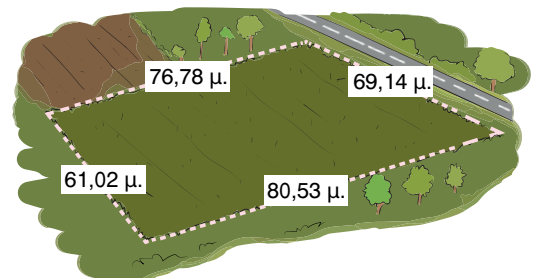
5η Άσκηση

Να τοποθετήσεις τους παρακάτω δεκαδικούς αριθμούς στην αριθμογραμμή και να τους στρογγυλοποιήσεις στον πλησιέστερο φυσικό αριθμό:



1ο Πρόβλημα

Να στρογγυλοποιήσεις τα μήκη των πλευρών στις μονάδες και να βρεις πόσα περίπου χρήματα θα χρειαστούν για την περίφραξη του οικοπέδου, αν το ένα μέτρο συρματοπλέγματος κοστίζει 5 €.



Διερεύνηση – Επέκταση

Η μητέρα της Αγγελικής αγόρασε έναν ηλεκτρονικό υπολογιστή αξίας 594,95 € με 5 μηνιαίες δόσεις. Πόσα ευρώ περίπου θα πληρώνει κάθε μήνα;

