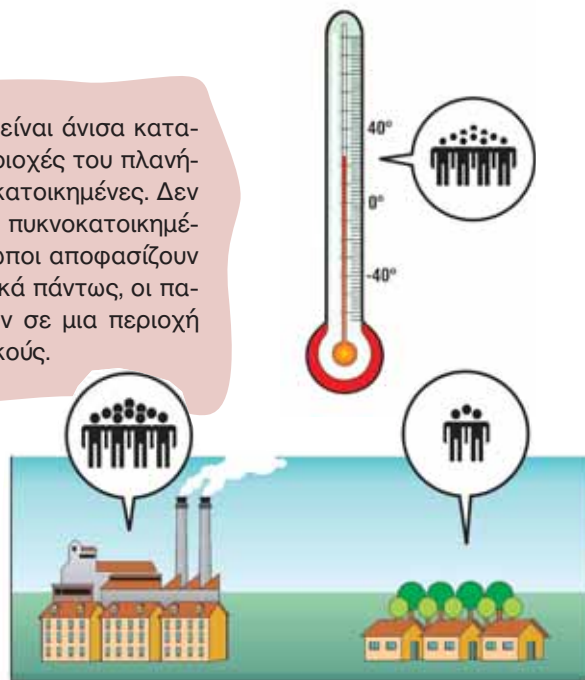
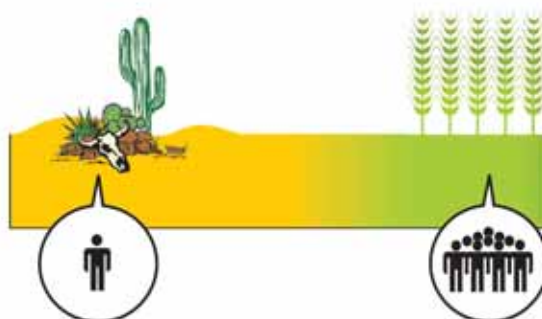
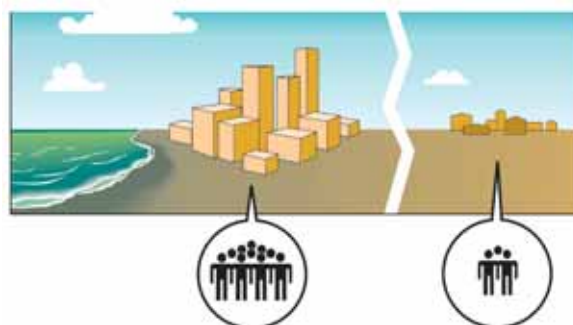
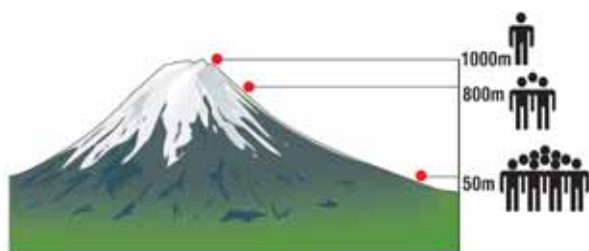


Σήμερα οι κάτοικοι της Γης ξεπερνούν τα 6.500.000.000 και είναι άνισα κατανεμημένοι στην επιφάνεια της Γης, με αποτέλεσμα άλλες περιοχές του πλανήτη μας να είναι πυκνοκατοικημένες και άλλες να είναι αραιοκατοικημένες. Δεν είναι πάντα εύκολο να ερμηνεύσουμε γιατί μια περιοχή είναι πυκνοκατοικημένη και μια άλλη όχι, επειδή τα κριτήρια με τα οποία οι άνθρωποι αποφασίζουν πού θα εγκατασταθούν είναι πολλά και συχνά άγνωστα. Γενικά πάντως, οι παράγοντες που επηρεάζουν την εγκατάσταση των ανθρώπων σε μια περιοχή μπορούν να χωριστούν σε φυσικούς, ιστορικούς και οικονομικούς.



► Παρατήρησε τις εικόνες που ακολουθούν και:

- Σημείωσε σε κάθε εικόνα, ανάλογα με το τι αυτή περιγράφει, μία από τις φράσεις: «φυσικός παράγοντας», «ιστορικός παράγοντας», «οικονομικός παράγοντας».
- Παρατήρησε τον χάρτη του αναγλύφου και τον χάρτη κατανομής του πληθυσμού και φέρε ένα παράδειγμα για κάθε εικόνα.



Η κατανομή του πληθυσμού στις ηπείρους

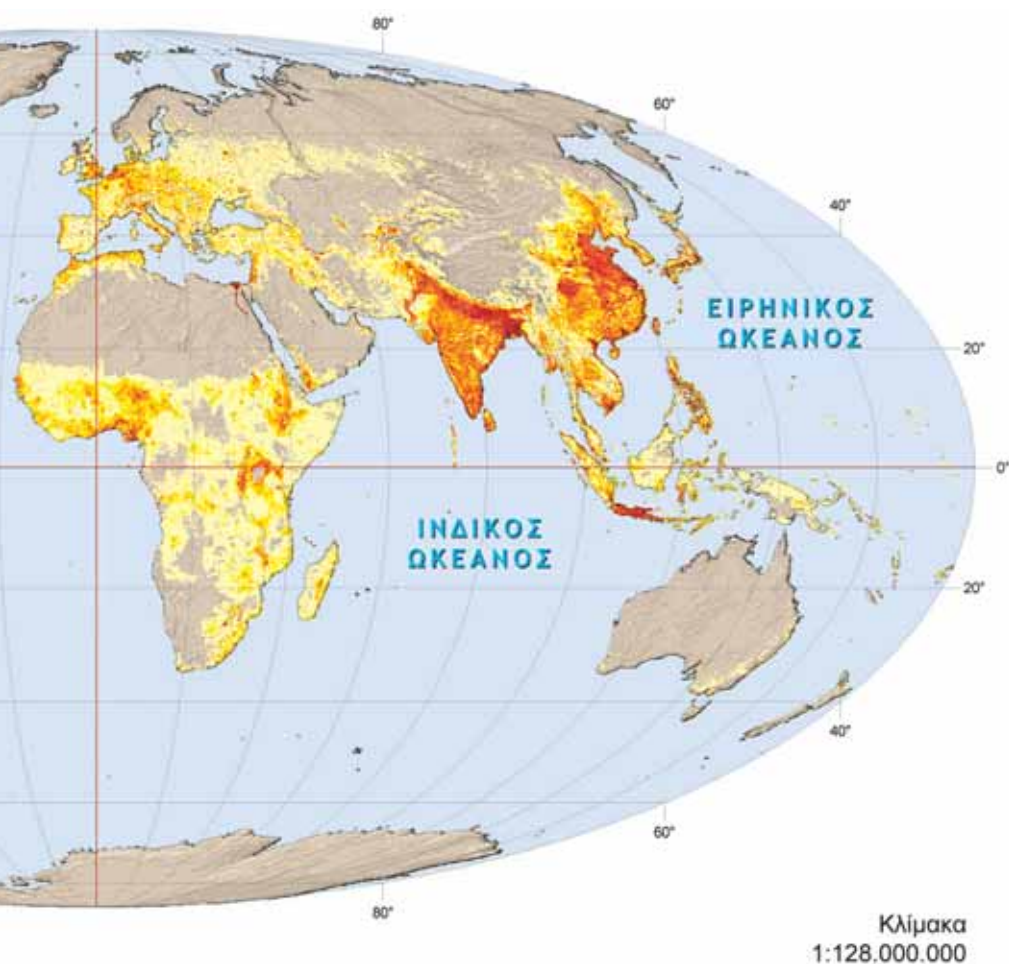
- Μελέτησε τον χάρτη και συμπλήρωσε το κείμενο που ακολουθεί με τις λέξεις της παρένθεσης. (πολικές περιοχές, Ασία, Αμερικής, ζώνες των τροπικών δασών, Ευρώπη, έρημοι)

Μελετώντας τον χάρτη παρατηρούμε ότι υπάρχουν πολύ πυκνοκατοικημένες περιοχές στον πλανήτη μας και άλλες σχεδόν ακατοίκητες. Οι, οι, οι κατοικούνται ελάχιστα, καθώς οι φυσικές συνθήκες (κρύο, έλλειψη νερού, υπερβολική υγρασία) δεν ευνοούν την ανθρώπινη ζωή. Αντίθετα, παρατηρούνται υψηλές συγκεντρώσεις ανθρώπων στα νότια και ανατολικά της, στην, στις ανατολικές και δυτικές ακτές της



► Πήγαινε στην ενότητα Γ1.1 του Τετραδίου Εργασιών και, ακολουθώντας το σχέδιο εργασίας, κάνε έναν δικό σου χάρτη που θα απεικονίζει την πυκνότητα πληθυσμού στην Αφρική.

Κατανομή των ανθρώπων στην επιφάνεια της Γης



Ζητώντας απαντήσεις από τον χάρτη...

- ▶ Για να απαντήσεις στις παρακάτω ερωτήσεις, θα πρέπει να συμβουλευτείς και τον χάρτη του αναγλύφου που είναι κρεμασμένος στον τοίχο της τάξης σου.
 - Σε ποιο ημισφαίριο είναι συγκεντρωμένοι οι περισσότεροι άνθρωποι; Σε τι νομίζεις ότι οφείλεται η διαφορά;
 - Ανάμεσα σε ποιους παραλλήλους παρατηρούνται οι μεγαλύτερες συγκεντρώσεις ανθρώπων; Πώς εξηγείται αυτό κατά τη γνώμη σου;
 - Είναι η Ασία το ίδιο πυκνοκατοικημένη σε όλες τις περιοχές της; Προσπάθησε να εξηγήσεις γιατί το βόρειο τμήμα της Ασίας είναι σχεδόν ακατοίκητο.
 - Ποια περιοχή της Νότιας Αμερικής μοιάζει να μην κατοικείται; Γιατί συμβαίνει αυτό κατά τη γνώμη σου;
 - Πού είναι συγκεντρωμένοι οι περισσότεροι άνθρωποι στη Βόρεια Αμερική; Στο εσωτερικό της ηπείρου ή στις ακτές; Αιτιολόγησε την απάντησή σου.