




Ε' ΤΑΞΗ

43. ΣΥΜΜΕΤΡΙΑ

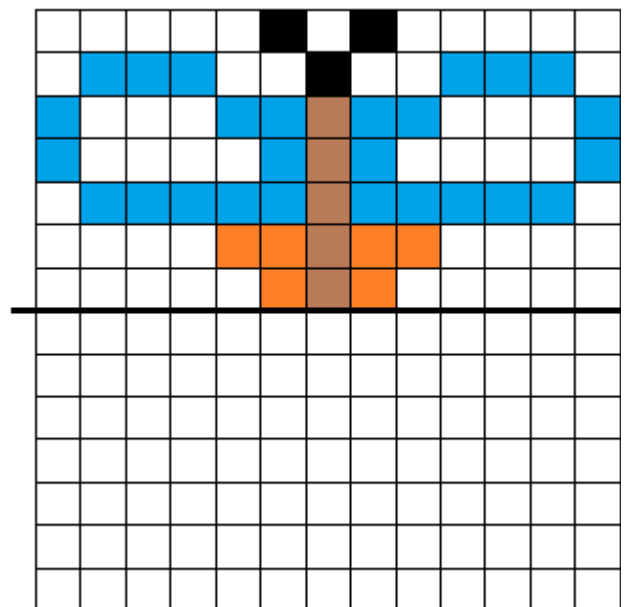
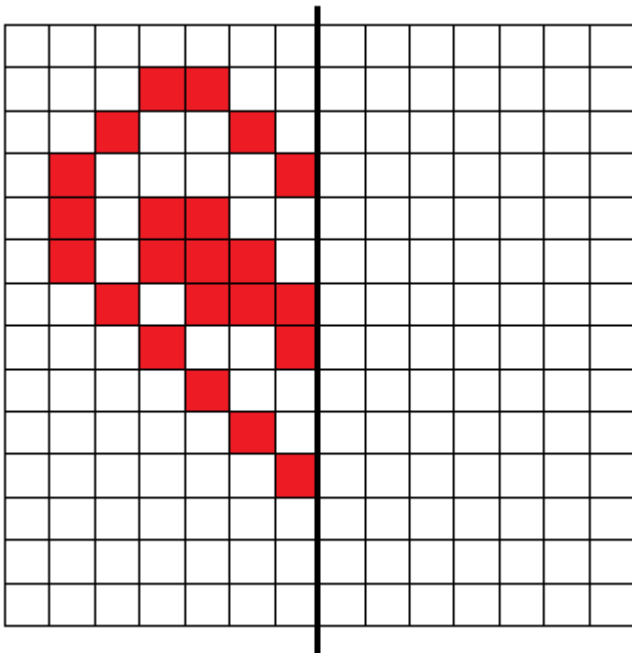


Όνομα:

1. Χαράξτε τους άξονες συμμετρίας στα παρακάτω σχήματα (όπου υπάρχουν).



2. Να χρωματίσετε όσα κουτάκια χρειάζεται, ώστε τα σχήματα που θα προκύψουν να είναι συμμετρικά, ως προς τον άξονα συμμετρίας.



3. Κυκλώστε τα γράμματα του ονόματός σας, γράψτε το στο πλαίσιο και χαράξτε τους άξονες συμμετρίας τους.

Α Β Γ Δ Ε Ζ Η Θ Ι Κ Λ Μ

Ν Ξ Ο Π Ρ Σ Τ Υ Φ Χ Ψ Ω

