



Όνομα: _____

1. Συμπληρώνω τα μοτίβα:



Μοτίβο είναι καθετί που επαναλαμβάνεται σταθερά. Τα μοτίβα μπορούμε να τα συναντήσουμε παντού: από τα μαθηματικά μέχρι και την καθημερινή μας ζωή.



2. Συμπληρώνω τα μοτίβα:





A)

72		63		:		45		36		27
----	--	----	--	---	--	----	--	----	--	----

B)

144		132		120						
-----	--	-----	--	-----	--	--	--	--	--	--

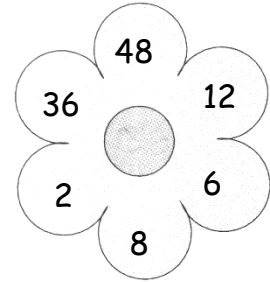
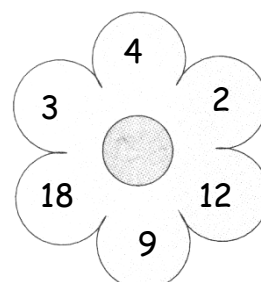
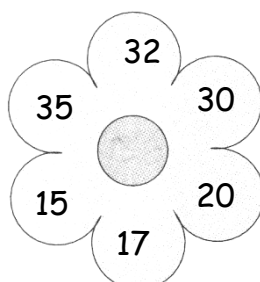
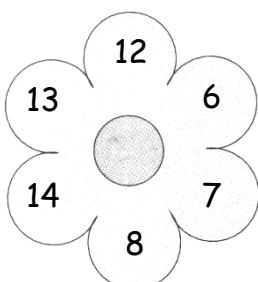
3. Συμπληρώνω το μοτίβο:



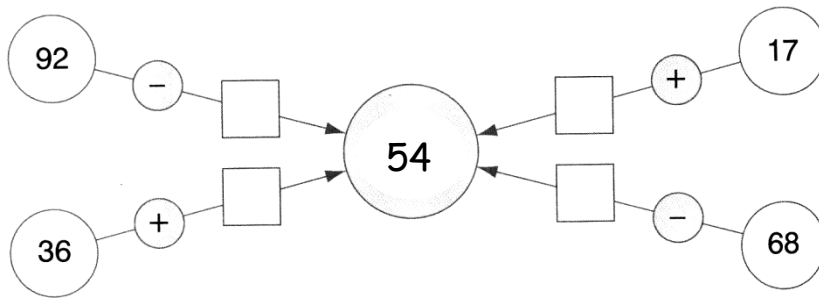
4. Βρίσκω ποιος αριθμός κρύβεται πίσω από το ερωτηματικό:

8×9	+	7×7	-	2×34	\times	$45 - 42$	+	$81 - 40$:	$22 : 11$	=	?
--------------	---	--------------	---	---------------	----------	-----------	---	-----------	---	-----------	---	---

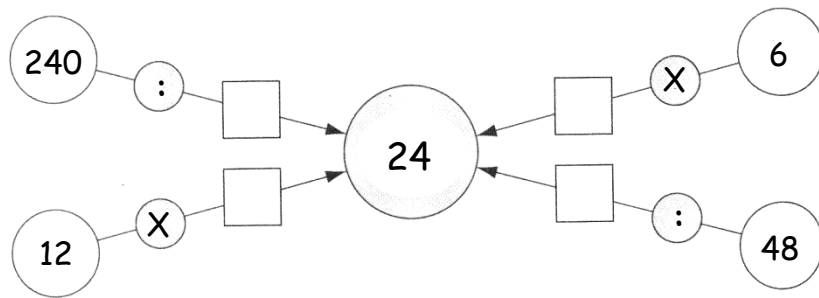
5. Βρίσκω την πράξη που κάνω στα πέταλα που είναι το ένα απέναντι στο άλλο και συμπληρώνω στο κέντρο τον αριθμό που βρίσκω (Σε κάθε λουλούδι κάνω την ίδια πράξη):



6. Συμπληρώνω το σχήμα για να πετύχω τον αριθμό στόχο:



7. Συμπληρώνω το σχήμα για να πετύχω τον αριθμό στόχο:



8. Συμπληρώνω τα μαγικά τετράγωνα ώστε οριζόντια, κάθετα ή διαγώνια να δίνουν άθροισμα:

- το Α τον αριθμό 22
- το Β τον αριθμό 30

Α			
8	11		1
1	2	7	
	4	9	6
10	5	4	

Β			
9	8	7	
5		11	8
	9	4	5
4	7		11

9. Γεμίζω ένα ποτήρι με νερό. Τι θα συμβεί πρώτα; Βάζω V στο σωστό:

- Το ποτήρι θα είναι κατά $\frac{1}{4}$ άδειο.
- Το ποτήρι θα είναι κατά $\frac{2}{3}$ γεμάτο.



Καλή Ανάσταση