


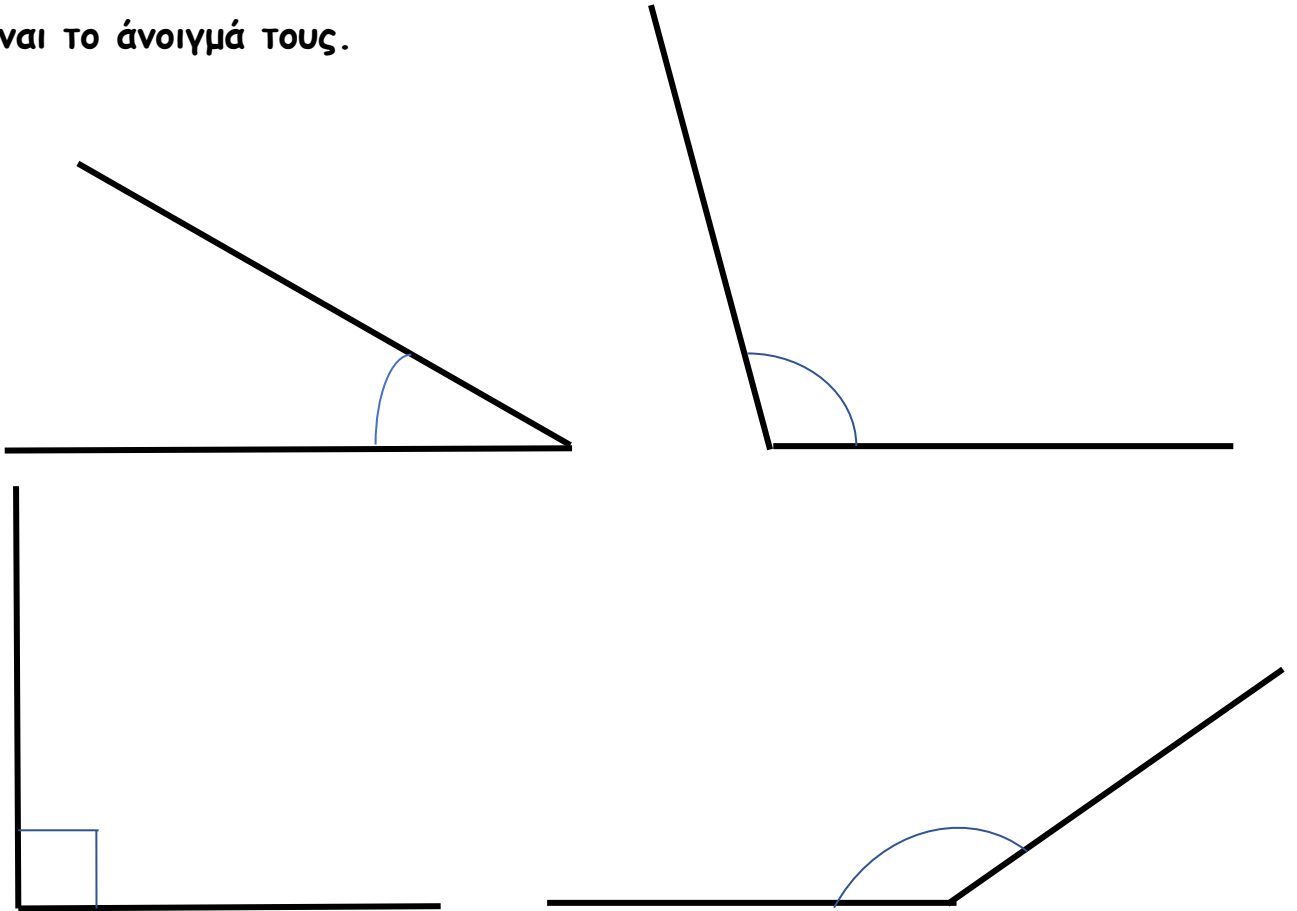
Ε' ΤΑΞΗ

39. Μέτρηση γωνιών



Όνομα:


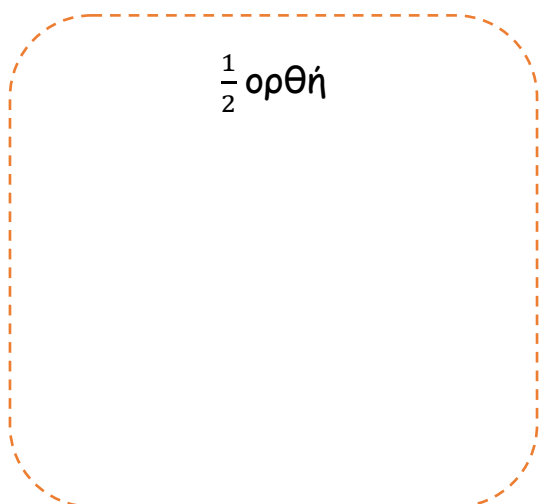
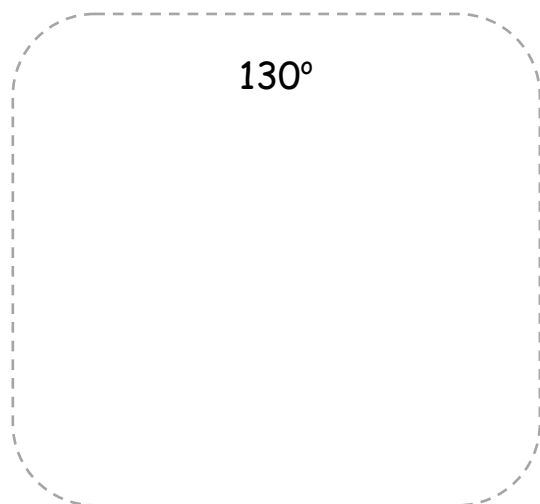
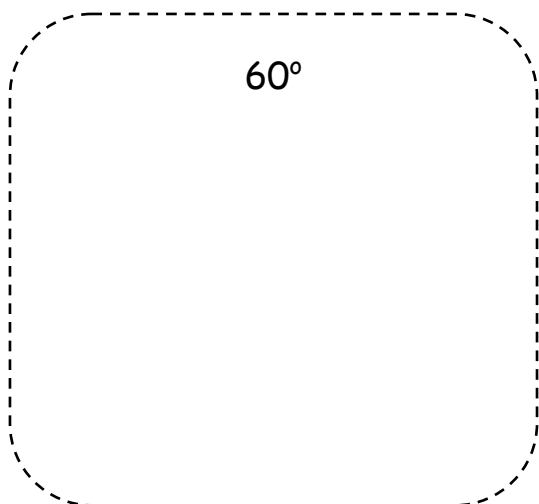
1. Μετρήστε τις γωνίες με το μοιρογνωμόνιό σας και γράψτε πόσες μοίρες είναι το άνοιγμά τους.



2. Σημειώστε Σ για Σωστό και Λ για Λάθος, στις παρακάτω προτάσεις.

- Τα $\frac{2}{3}$ της ορθής γωνίας είναι 30° .
- Οξεία λέγεται η γωνία που είναι μικρότερη των 60° .
- Για να συγκρίνουμε δύο γωνίες, μετράμε το μήκος των πλευρών τους.
- Τις γωνίες τις μετράμε σε μοίρες.
- Το $\frac{1}{2}$ της ορθής γωνίας είναι 180° .
- Αμβλεία λέγεται η γωνία που είναι μεγαλύτερη των 180° .

3. Σχεδιάστε τις γωνίες που ζητούνται.



4. Πόσες μοίρες είναι η γωνία που σχεδιάσαμε; 110° ή 70° . Εξηγήστε πώς σκεφτήκατε.

.....

.....

.....

.....

