

ΟΝΟΜΑ: _____

ΜΑΘΗΜΑΤΙΚΑ 9^η ΕΝΟΤΗΤΑ
Κεφ. 63 Επαναληπτικό Μάθημα

1. Γράψω τον αριθμό που είναι πριν και μετά.

_____ 79 _____	_____ 83 _____	_____ 99 _____	_____ 71 _____
----------------	----------------	----------------	----------------

2. Συμπληρώνω όπως το παράδειγμα.

4 φορές το 2 = $2 + 2 + 2 + 2$

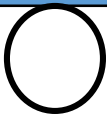
3 φορές το 5 = _____

5 φορές το 5 = _____


4 φορές το 10 = _____

3. Βάζω αριθμούς ξεκινώντας από το πιο βαρύ.

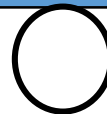
βιβλίο



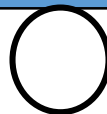
γάτα



σελίδα χαρτί



ελέφαντας



4. Λύνω το παρακάτω πρόβλημα:

Στην παπουτσοθήκη μου έχω 10 παπούτσια. Πόσα ζευγάρια παπούτσια έχω;

Λύση - Απάντηση:



Έχω _____ ζευγάρια παπούτσια, γιατί _____ φορές το κάνει 10.

5. Κυκλώνω κάθε φορά τα χρήματα που μου ζητάνε.

70 ευρώ						
85 ευρώ						
90 ευρώ						
80 ευρώ						
100 ευρώ						

6. Σχεδιάζω με τον χάρακα το δεύτερο σχήμα ίδιο με το πρώτο.

