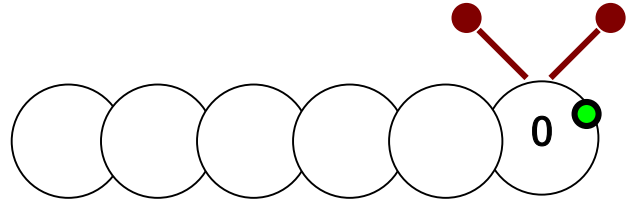
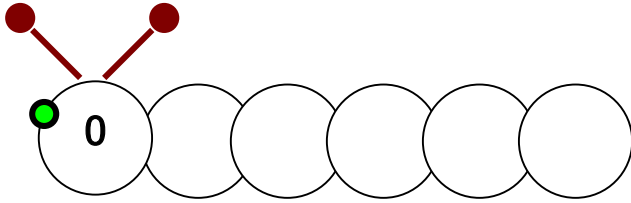


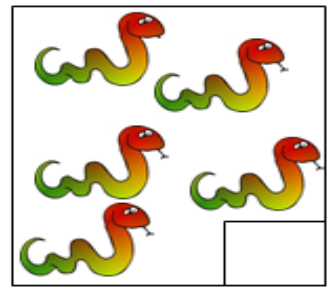


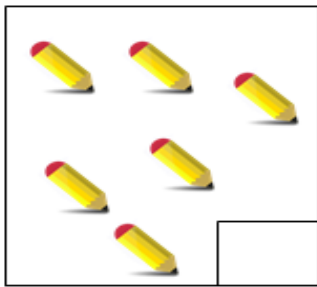
ΟΝΟΜΑ: _____

ΜΑΘΗΜΑΤΙΚΑ 2^η ΕΝΟΤΗΤΑ
Κεφ.16: Επαναληπτικό Μάθημα 2

1. Μετρώ δύο - δύο από το 0 ως το 10 και αντίστροφα.



2. Μετρώ τα αντικείμενα και συμπληρώνω τους αριθμούς.



3. Μοιράζω τα χριστουγεννιάτικα στολίδια με διαφορετικό τρόπο κάθε φορά.



$$\square + \square$$

$$\square + \square$$

$$\square + \square$$



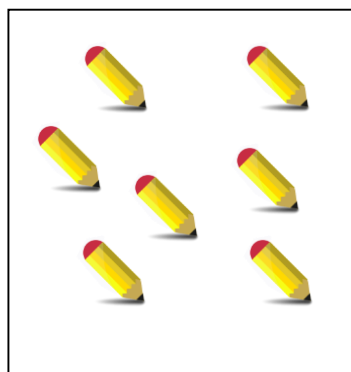

$$\square + \square$$

$$\square + \square$$

$$\square + \square$$

4. Συμπληρώνω ένα μολύβι περισσότερο στο δεξιό κουτάκι και ένα λιγότερο στο αριστερό.

1 λιγότερο



1 περισσότερο

