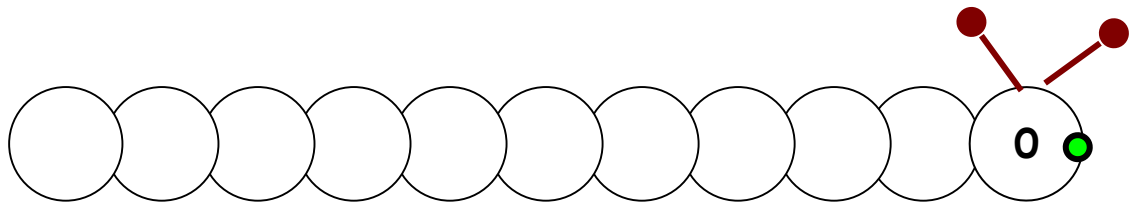
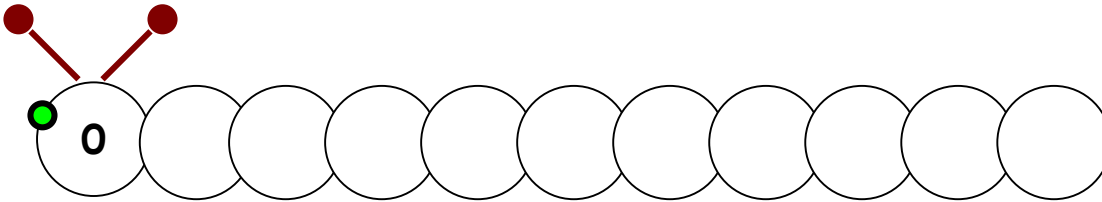


ΟΝΟΜΑ: _____

ΜΑΘΗΜΑΤΙΚΑ 2^η ΕΝΟΤΗΤΑ

Κεφ.16: Επαναληπτικό Μάθημα 1

1. Γράφω τους αριθμούς στην κάμπια από το 0 ως το 10 και αντίστροφα.



2. Αντιστοιχίζω τους αριθμούς με το όνομά τους.

1 *

2 *

3 *

4 *

5 *

* τέσσερα

* δύο

* ένα

* πέντε

* τρία



3. Σχεδιάσε τόσα μήλα, όσα και ο αριθμός στο κουτάκι.

7	

9	

6	

10	

4. Συμπληρώνω το σύμβολο (> , = , <) που ταιριάζει.

10 ___ 8

5 ___ 5

1 ___ 0

3 ___ 7

3 ___ 2

3 ___ 7

9 ___ 5

9 ___ 5

3 ___ 4

9 ___ 9

5. Κάνω τις παρακάτω προσθέσεις.

$2 + 2 = \underline{\quad}$

$2 + 3 = \underline{\quad}$

$4 + 0 = \underline{\quad}$

$3 + 2 = \underline{\quad}$

$1 + 1 = \underline{\quad}$

$2 + 0 = \underline{\quad}$

$1 + 3 = \underline{\quad}$

$4 + 1 = \underline{\quad}$

$0 + 5 = \underline{\quad}$



6. Κάνω τις παρακάτω προσθέσεις κάθετα.

$$\begin{array}{r} 1 \\ + 2 \\ \hline \square \end{array}$$

$$\begin{array}{r} 2 \\ + 2 \\ \hline \square \end{array}$$

$$\begin{array}{r} 3 \\ + 1 \\ \hline \square \end{array}$$

$$\begin{array}{r} 4 \\ + 1 \\ \hline \square \end{array}$$

$$\begin{array}{r} 4 \\ + 0 \\ \hline \square \end{array}$$

$$\begin{array}{r} 3 \\ + 2 \\ \hline \square \end{array}$$

7. Γράφω τον αριθμό που είναι πριν και μετά στους παρακάτω αριθμούς.

_____ 2 _____

_____ 1 _____

_____ 4 _____

_____ 3 _____


_____ 6 _____

_____ 5 _____

_____ 8 _____

_____ 7 _____

8. Η Ελένη έχει



μπογιές. Της έδωσε ο Νίκος άλλη



. Πόσες

μπογιές έχει τώρα η Ελένη;

Λύση: $\square + \square = \square$

Απάντηση: Η Ελένη έχει τώρα _____ μπογιές.

