






ΟΝΟΜΑ: _____













ΜΑΘΗΜΑΤΙΚΑ 2^η ΕΝΟΤΗΤΑ

Κεφ.12: Σύγκριση αριθμών - Τα σύμβολα (=, >, <) 2


















1. Αντιστοιχίζω κάθε αριθμό με το όνομά του. Μετά γράφω το όνομα δίπλα σε κάθε αριθμό.

Ένα*	* 	<input type="text"/>
Δύο *	* 	<input type="text"/>
Τρία*	* 	<input type="text"/>
Τέσσερα*	* 	<input type="text"/>
Πέντε*	* 	<input type="text"/>

2. Βάζω τους αριθμούς από το μεγαλύτερο στο μικρότερο.

   	<input type="text"/>	<input type="text"/>	<input type="text"/>	<input type="text"/>
   	<input type="text"/>	<input type="text"/>	<input type="text"/>	<input type="text"/>
   	<input type="text"/>	<input type="text"/>	<input type="text"/>	<input type="text"/>

3. Βάζω το σωστό σύμβολο : < , > , =

 <input type="text"/> 	 <input type="text"/> 	 <input type="text"/> 
 <input type="text"/> 	 <input type="text"/> 	 <input type="text"/> 
 <input type="text"/> 	 <input type="text"/> 	 <input type="text"/> 