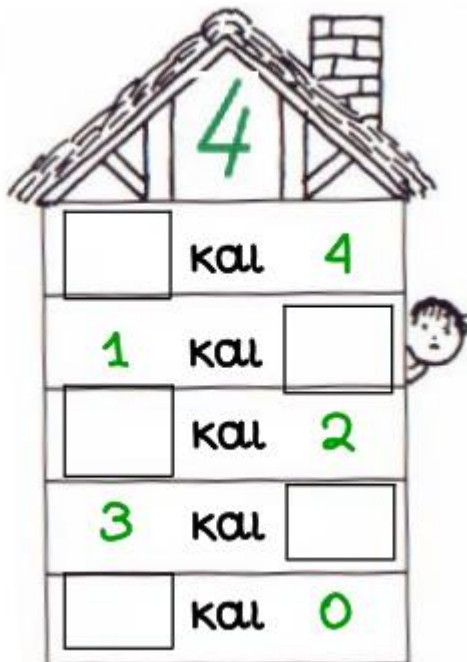


ΟΝΟΜΑ: _____











ΜΑΘΗΜΑΤΙΚΑ 1^η ΕΝΟΤΗΤΑ

Κεφ.7: Πρόσθεση και ανάλυση των αριθμών μέχρι το 5 (2) (Ο αριθμός 4)

1. Συμπληρώνω τα ζευγαράκια που ζουν στο σπιτάκι του 4.



2. Μοιράζω τις 4 μπάλες με διαφορετικούς τρόπους.

	<input type="text"/>	και	<input type="text"/>	
	<input type="text"/>	και	<input type="text"/>	
	<input type="text"/>	και	<input type="text"/>	
	<input type="text"/>	και	<input type="text"/>	
	<input type="text"/>	και	<input type="text"/>	

○ ○ ○ ○