

ΟΝΟΜΑ: _____

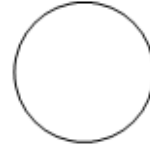

ΜΑΘΗΜΑΤΙΚΑ 1^η ΕΝΟΤΗΤΑ

Κεφ.7: Πρόσθεση και ανάλυση των αριθμών μέχρι το 5 (1) (Οι αριθμοί 2,3)

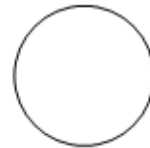
1. Γράφω τους αριθμούς που δείχνουν τα δάχτυλα



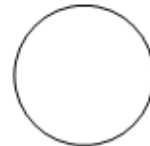

και



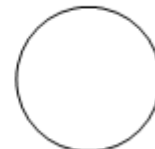

και




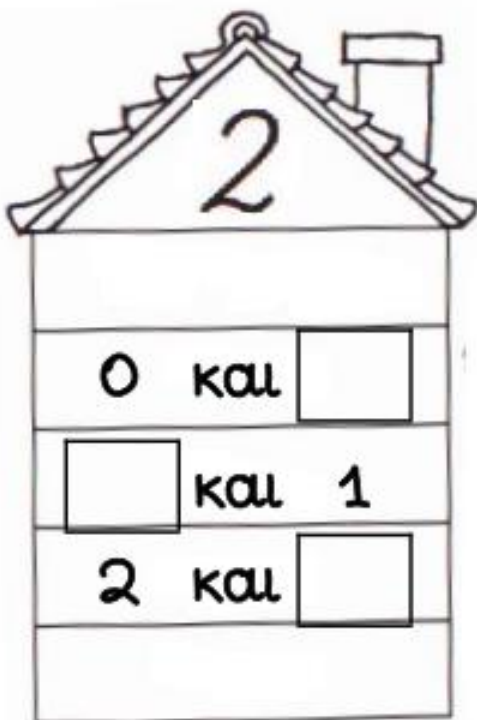
και



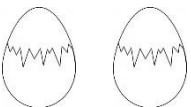
και









2. Συμπληρώνω τα ζευγαράκια που ζουν στο σπιτάκια του 2 και του 3.














3. Μοιράζω τα 2 αυγά στα καλάθια με διαφορετικούς τρόπους και συμπληρώνω τους αντίστοιχους αριθμούς.



	<input type="text"/>	και	<input type="text"/>	
	<input type="text"/>	και	<input type="text"/>	
	<input type="text"/>	και	<input type="text"/>	

4. Μοιράζω τα 3 μήλα με διαφορετικούς τρόπους.



	→		<input type="text" value="0"/>		<input type="text" value="3"/>	←	
	→		<input type="text"/>		<input type="text"/>	←	
	→		<input type="text"/>		<input type="text"/>	←	
	→		<input type="text"/>		<input type="text"/>	←	

5. Συμπληρώνω τους αριθμούς που λείπουν.

<input type="text" value="3"/>	και	<input type="text"/>	→	<input type="text" value="4"/>
<input type="text" value="2"/>	και	<input type="text"/>	→	<input type="text" value="3"/>
<input type="text" value="4"/>	και	<input type="text"/>	→	<input type="text" value="5"/>