

ΟΝΟΜΑ: _____


ΜΑΘΗΜΑΤΙΚΑ 3^η ΕΝΟΤΗΤΑ

Κεφ.17: Οι αριθμοί από το 10 μέχρι το 20 (2)

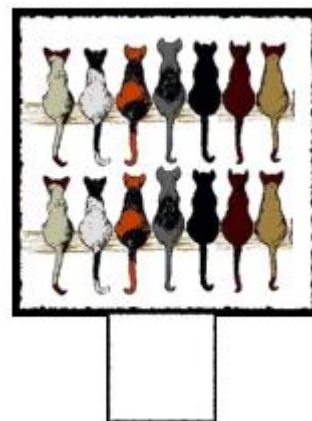
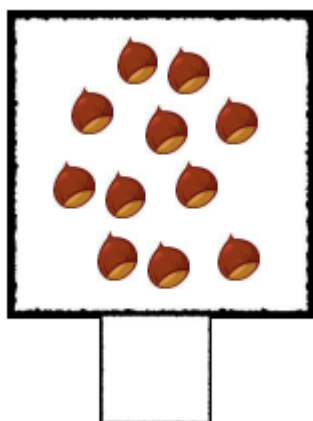

1. Γράφω και μαθαίνω τους αριθμούς από το 11 έως το 15.

11								
12								
13								
14								
15								

2. Γράφω τους αριθμούς από το 1 έως το 15.



3. Μετράω και γράφω στο κουτί το πλήθος των πραγμάτων.



4. Βρίσκω τον αριθμό που είναι πριν και μετά.

