





ΟΝΟΜΑ: \_\_\_\_\_




## ΜΑΘΗΜΑΤΙΚΑ 2<sup>η</sup> ΕΝΟΤΗΤΑ

### Κεφ.10: Οι αριθμοί από το 6 μέχρι το 10 (I)

1. Αντιστοιχίζω τους αριθμούς με τα αντικείμενα.

7	
8	
5	
6	

2. Βρίσκω πόσα είναι όλα τα ψαράκια μέσα στη γυάλα και γράφω τον αριθμό.

	<input type="text"/>
	<input type="text"/>
	<input type="text"/>

3. Γράφω πολλές φορές τους αριθμούς 6, 7 και 8.

6									
7									
8									

4. Συμπληρώνω τον αριθμό πριν και μετά από τον αριθμό στον κύκλο.

— (5) —    — (6) —    — (7) —    — (8) —