

7

Βρίσκω το μισό και το ολόκληρο

α. Κόβω από το Παράρτημα τα γεωμετρικά σχήματα.



κύκλος



τετράγωνο



παραλληλόγραμμο



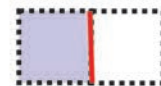
τρίγωνο

Τα διπλώνω στη μέση έτσι, ώστε να τα χωρίσω σε δύο ίσα μέρη.



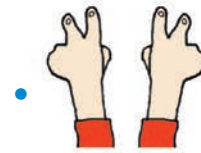
Χρωματίζω με ό,τι χρώμα θέλω το μισό τους.

Παράδειγμα:

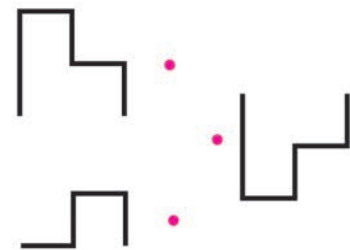



Συζητάμε στην τάξη; Είναι όλα τα μισά που χρωματίσαμε ίδια μεταξύ τους;

β. Κυκλώνω το μισό κάθε φορά.

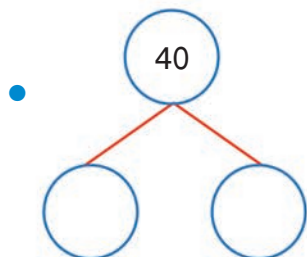


γ. Παρατηρώ προσεχτικά. Βρίσκω τα 2 ίδια μισά. Αντιστοιχίζω τα 2 μισά για να φτιάξω το ολόκληρο.

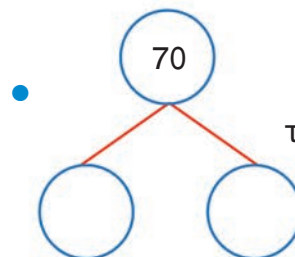




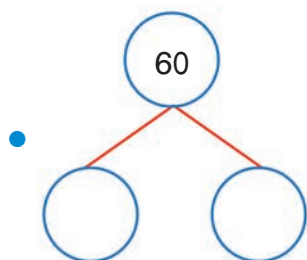
δ. Βρίσκω το μισό του αριθμού κάθε φορά:



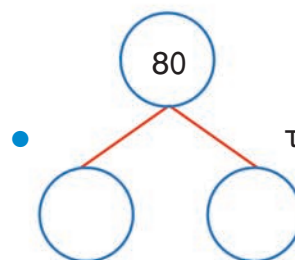
το μισό είναι



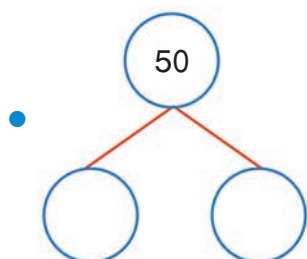
το μισό είναι



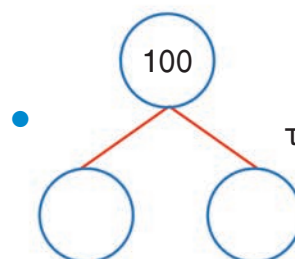
το μισό είναι



το μισό είναι



το μισό είναι



το μισό είναι

ε. Ποιος είναι όλος ο αριθμός αν:

- το μισό του μισού είναι 10

- το μισό του μισού είναι 20

ολόκληρος ο αριθμός είναι

ολόκληρος ο αριθμός είναι

