
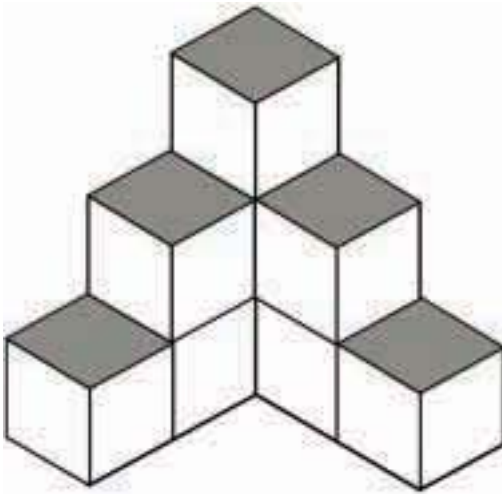


Έχω μεγάλα σχέδια!




Άσκηση 1η

Προσπάθησε να αντιγράψεις το σχήμα στο πλέγμα ή σε χαρτί με τελείες (dot paper).



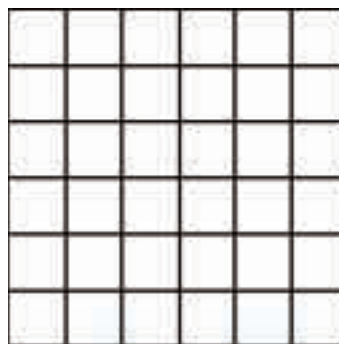
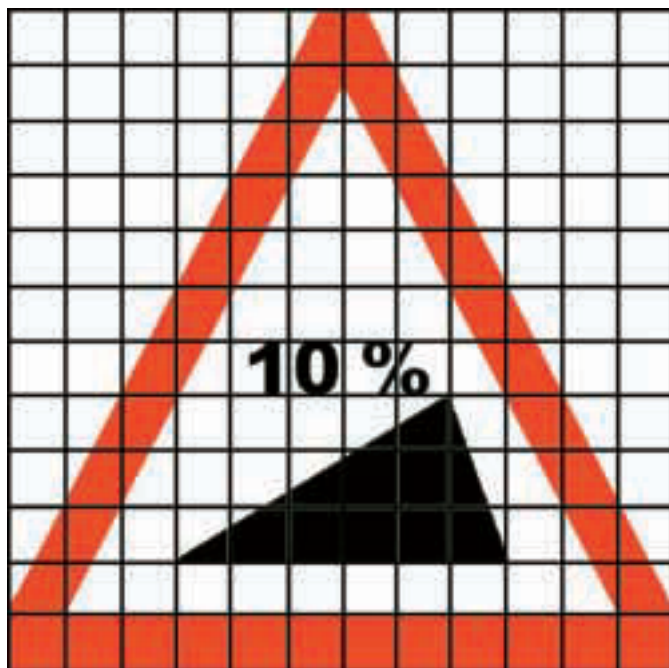
Άσκηση 2η

Να μεγεθύνεις το αστέρι στο πλέγμα που βρίσκεται δεξιά.



Άσκηση 3η

Δοκίμασε να σμικρύνεις το σήμα στο πλέγμα που βρίσκεται δεξιά.



Δραστηριότητα με προεκτάσεις: «Κάτοψη του δωματίου μου»

Στον παρακάτω κενό χώρο να σχεδιάσεις την κάτοψη του δωματίου σου με κλίμακα 1:50 (δηλαδή για 1 μέτρο που μετρώ στην πραγματικότητα χαράζω εκατοστά στο σχέδιο).



Θέμα για διερεύνηση και συζήτηση

- Βρες την κλίμακα στο χάρτη της τάξης σου. Θα μπορούσες να σχεδιάσεις το δωμάτιό σου με την κλίμακα αυτή; Γιατί;