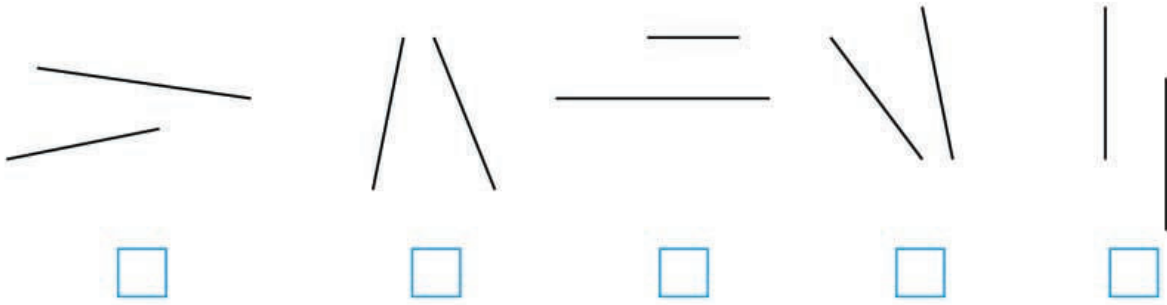



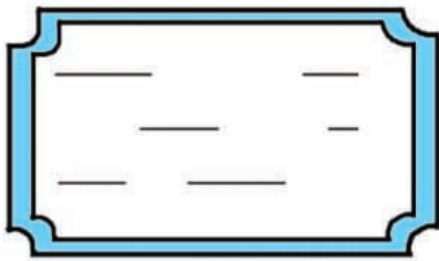
52

Αναγνωρίζω τις παράλληλες ευθείες

α. Ποιες ευθείες είναι παράλληλες; Ελέγχω με το χάρακα. Βάζω στο σωστό.



β. Συμπληρώνω τις παράλληλες ευθείες στην ετικέτα του τετραδίου και στον καθρέφτη.



γ. Παρατηρώ προσεχτικά τις σημαίες.



α.



β.



γ.



δ.



ε.

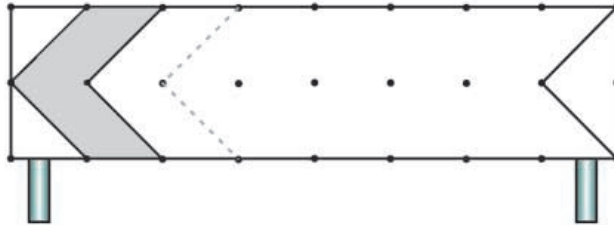
Σε ποιες σημαίες υπάρχουν παράλληλες λουρίδες; Βάζω στο σωστό.




Συζητάμε στην τάξη.



δ. Συμπληρώνω το σήμα που δείχνει πορεία αριστερής επικίνδυνης στροφής.




ε. Συνεχίζω με τον ίδιο τρόπο τις παράλληλες ευθείες στην κάρτα, για να γράψω επάνω τις ευχές μου.




στ. Πού μπορούμε να βρούμε παράλληλες ευθείες; Εξηγώ:


• στην τάξη μου.




• στο θρανίο μου.



• σε ένα βιβλίο μου.



• σε ένα χαρτί A4.



ζ. Φτιάχνω ένα μοτίβο με κάθετες και παράλληλες ευθείες.

