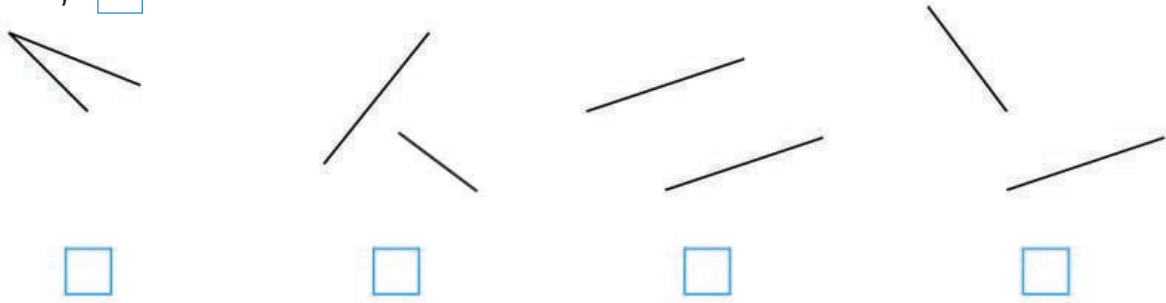


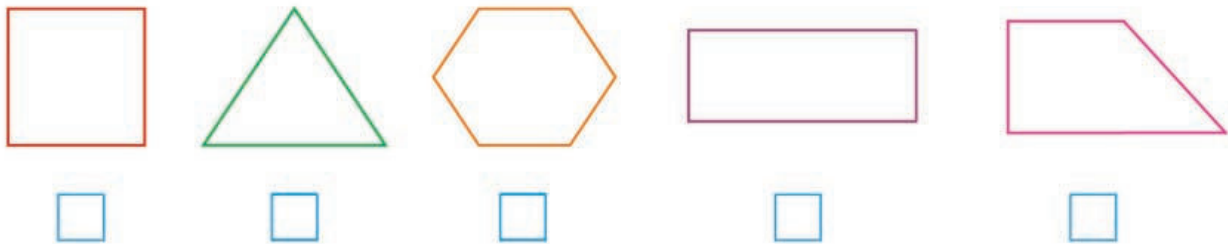
**α.** Με το χάρακα προεκτείνω τις ευθείες. Βρίσκω με το γνώμονα ποιες είναι κάθετες μεταξύ τους.

Βάζω  στο σωστό.



**β.** Σε ποια γεωμετρικά σχήματα υπάρχουν κάθετες ευθείες; Βάζω  στο σωστό.

Ελέγχω με το γνώμονα τις εκτιμήσεις μου.



**γ.** Παρατηρώ προσεχτικά τις σημαίες.



α.  
Ελλάδας

β.  
Νορβηγίας

γ.  
Τσεχίας

δ.  
Κουβέιτ

ε.  
Αργεντινής

στ.  
Κίνας

Σε ποιες σημαίες υπάρχουν κάθετες μεταξύ τους λουρίδες; Βάζω  στο σωστό.

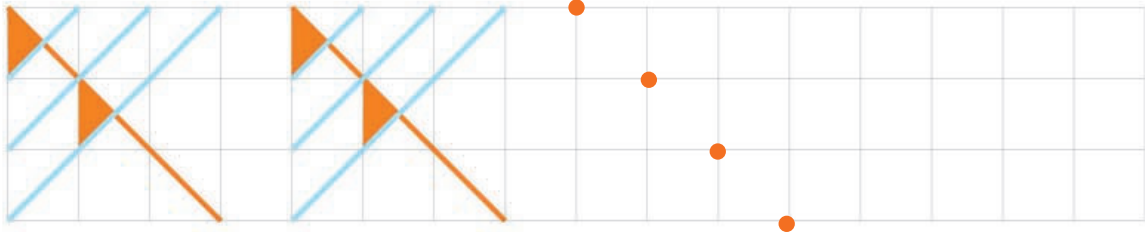


Συζητάμε στην τάξη.

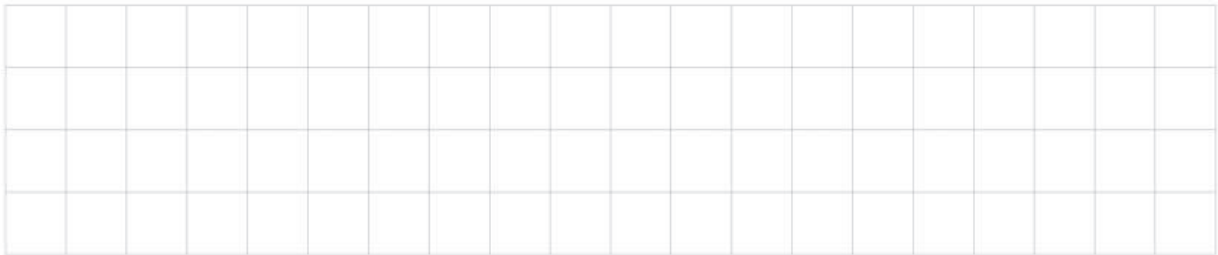


## Ενότητα 9

**δ.** Παρατηρώ και συνεχίζω το γεωμετρικό μοτίβο με κάθετες ευθείες.



**ε.** Χρησιμοποιώ χάρακα και χρώματα και φτιάχνω κι εγώ το δικό μου γεωμετρικό μοτίβο με κάθετες ευθείες.



**στ.** Χρησιμοποιώ χάρακα και συμπληρώνω το συμμετρικό του σχήματος.



Συζητάμε στην τάξη. Υπάρχουν κάθετες ευθείες στο παρακάτω σχήμα;

