


α. Τα παιδιά στην τάξη είναι .....

- Όταν κάθονται ανά 2, φτιάχνουν ..... ομάδες.



- Όταν κάθονται 4 παιδιά σε κάθε ομάδα




η τάξη θα έχει ..... ομάδες.



- Όταν κάθονται .... παιδιά σε κάθε ομάδα



η τάξη θα έχει ..... ομάδες.



- Όταν κάθονται .... παιδιά σε κάθε ομάδα




η τάξη θα έχει ..... ομάδες.






β. Ο Μιχάλης και ο Σταύρος αγόρασαν στη μητέρα τους λουλούδια. Έδωσαν συνολικά και οι δύο 17 €. Μοιράστηκαν στη μέση τα έξοδα. Πόσα χρήματα έδωσε ο καθένας;




Εξηγώ με αριθμούς:

γ. Η μητέρα του Σταμάτη αγόρασε ύφασμα για να του φτιάξει 2 ίδιες κουρτίνες. Έδωσε συνολικά 130 €. Πόσο κόστισε το ύφασμα για κάθε κουρτίνα;



• Της έμειναν στο πορτοφόλι 128 ευρώ. Πόσα χρήματα είχε στην αρχή;



δ. Φτιάχνω ένα μοτίβο με άσπρα και μπλε κυβάκια. Τα άσπρα είναι διπλάσια από τα μπλε. Χρησιμοποιώ 18 κυβάκια. Θα χρειαστώ: ..... μπλε κυβάκια.  
..... άσπρα κυβάκια.

• Ποια μοτίβα μπορώ να φτιάξω;

• Ελέγχω ποιες από τις παρακάτω κατασκευές είναι σωστές. Βάζω  στο σωστό.

•

•

•

•

•

•

•

•



Συζητάμε στην τάξη για τα αποτελέσματα.

