
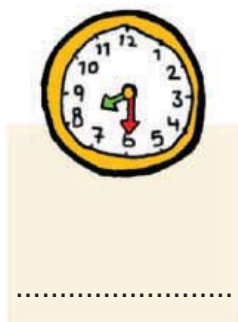



α. Τι ώρα λένε τα ρολόγια;



β. Δείχνω στα ρολόγια.

2 και μισή



12 και μισή



6 και μισή



γ. Πόση ώρα πέρασε;

Πέρασε ώρα.

Πέρασαν ώρες.



Ενότητα 8

δ. Η εκπομπή διαρκεί μισή ώρα. Τι ώρα θα δείχνει το ρολόι όταν τελειώσει;

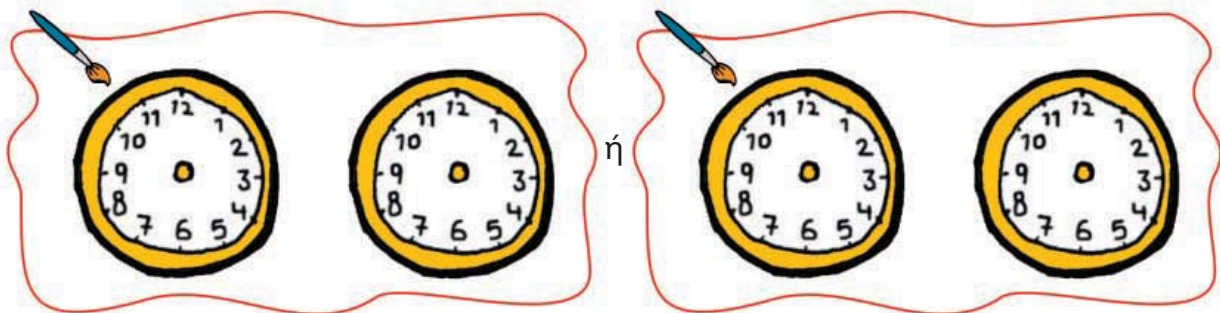


• Τι ώρα θα δείχνει το ρολόι όταν έρθει ο παππούς;



ε. Η Μαρία κάνει χορό 1 ώρα και μισή κάθε Παρασκευή.

• Ζωγραφίζω τι μπορεί να δείχνει το ρολόι στην αρχή και τι στο τέλος κάθε μαθήματος.



• Υπολογίζω πόσες ώρες χορεύει συνολικά:

• Κάθε εβδομάδα.

• Σε 4 εβδομάδες (1 μήνα).

Ελέγχω τους υπολογισμούς μου με το ρολόι.

