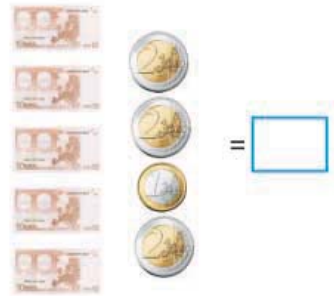
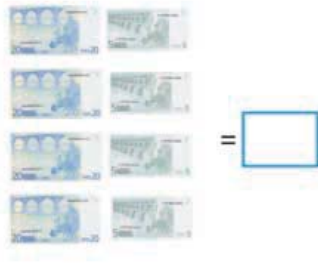


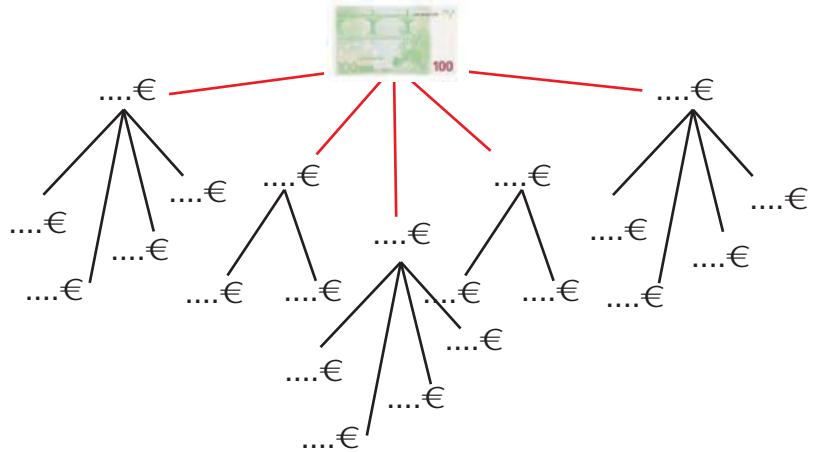
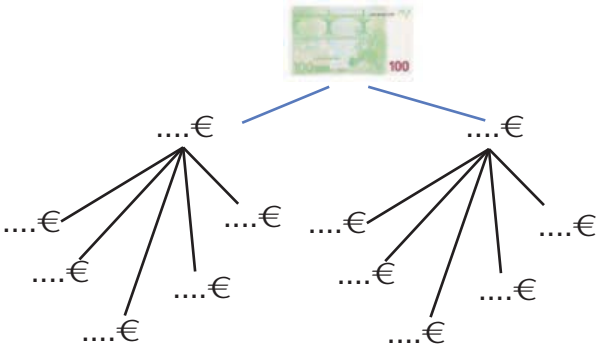
40

Γνωρίζω τα χαρτονομίσματα των 5, 10, 20, 50 και 100 ευρώ

α. Πόσα ευρώ είναι συνολικά;



β. Παρατηρώ προσεχτικά και συμπληρώνω.



γ. Τι νομίσματα μπορεί να έχουν τα αδερφάκια στους κουμπαράδες τους;



Έχω 79 €.

Μπορεί να έχει




Έχω 15 €
περισσότερα
από τον
αδερφό μου.

Μπορεί να έχει



Ενότητα 6

δ.  Πώς θα πληρώσουμε; Παίρνουμε όσες φορές θέλουμε κάθε νόμισμα ή χαρτονόμισμα.



49 €



51 €



89 €



ε.  Με ποια χαρτονομίσματα μπορούν να αγοράσουν τα παρακάτω;



95 €

Έδωσε €,
πήρε ρέστα 5 €.



17 €

Έδωσε €,
πήρε ρέστα 3 €.



43 €

Έδωσε €,
πήρε ρέστα 7 €.



58 €

Έδωσε €,
πήρε ρέστα 32 €.

στ. Ποια χαρτονομίσματα πρέπει να δώσω για να πάρω τα λιγότερα ρέστα; Κυκλώνω.

69 €





•  Θα πάρω ρέστα:

•  Θα πάρω ρέστα:



44 €

•  Θα πάρω ρέστα:

•  Θα πάρω ρέστα:

ζ. Ποιο κουκλάκι κοστίζει περισσότερο;

Πόσο περισσότερο;

Με ποια νομίσματα μπορώ να πληρώσω το πιο ακριβό; Κυκλώνω.



57 €



49 €

