
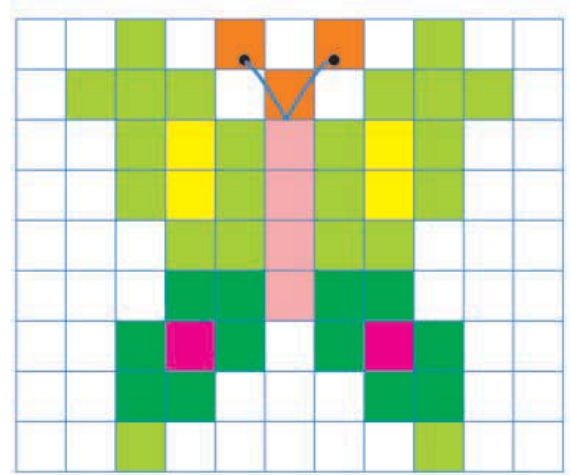


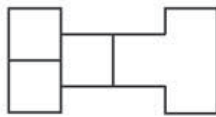
α. Ποια επιφάνεια είναι περισσότερη; (υπογραμμίζω το σωστό)

- η χρωματισμένη • η λευκή
- Με πόσα χρωματισμένα τετραγωνάκια είναι καλυμμένη η πεταλούδα;
- Από πόσα τετραγωνάκια συνολικά αποτελείται **όλη η επιφάνεια**;
- Η πεταλούδα είναι φτιαγμένη με:
.....    



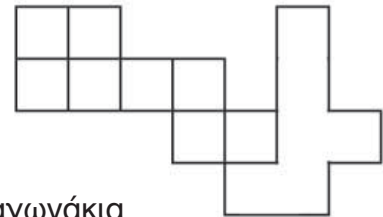
β. Με πόσα  μπορούμε να καλύψουμε τις επιφάνειες; Ζωγραφίζω και μετρώ.

• 1η επιφάνεια





..... τετραγωνάκια

• 2η επιφάνεια



..... τετραγωνάκια

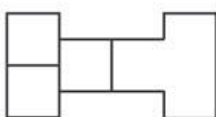
• Με πόσα   μπορούμε να καλύψουμε τις ίδιες επιφάνειες;

Εκτιμώ: Την 1η επιφάνεια με πλακάκια. Τη 2η επιφάνεια με πλακάκια.

Μπορώ να υπολογίσω ακριβώς χωρίς να μετρήσω;

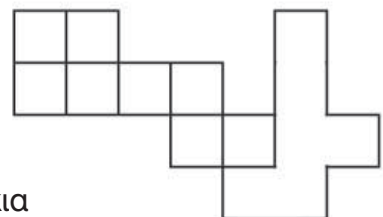
Ζωγραφίζω, μετρώ και ελέγχω την εκτίμησή μου και τον υπολογισμό που έκανα.

• 1η επιφάνεια



..... πλακάκια


• 2η επιφάνεια



..... πλακάκια



Ενότητα 6

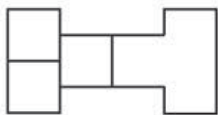
- Με πόσα  μπορούμε να καλύψουμε τις ίδιες επιφάνειες;

Εκτιμώ: Την 1η επιφάνεια με πλακάκια. Τη 2η επιφάνεια με πλακάκια.

Μπορώ να υπολογίσω ακριβώς χωρίς να μετρήσω;

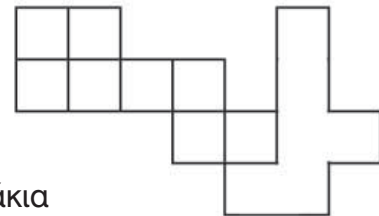
Ζωγραφίζω, μετρώ και ελέγχω την εκτίμησή μου και τον υπολογισμό που έκανα.

- 1η επιφάνεια



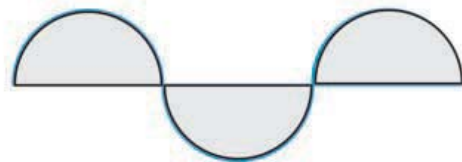
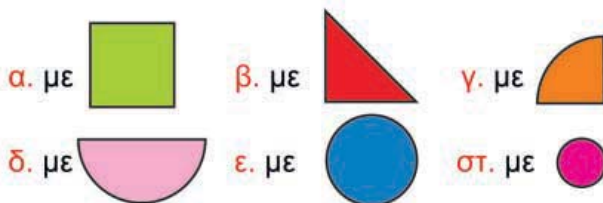
..... πλακάκια

- 2η επιφάνεια














..... πλακάκια

- γ. Με ποιον τρόπο μπορούμε να καλύψουμε με μεγαλύτερη ακρίβεια την επιφάνεια; Κυκλώνω το σωστό:



- δ. Πόσα από τα παρακάτω σχήματα χρειαζόμαστε για να καλύψουμε τις επιφάνειες;

	1η επιφάνεια		2η επιφάνεια
 φορές	→ 	 φορές	→  
 φορές		 φορές	
 φορές		 φορές	
 φορές		 φορές	

