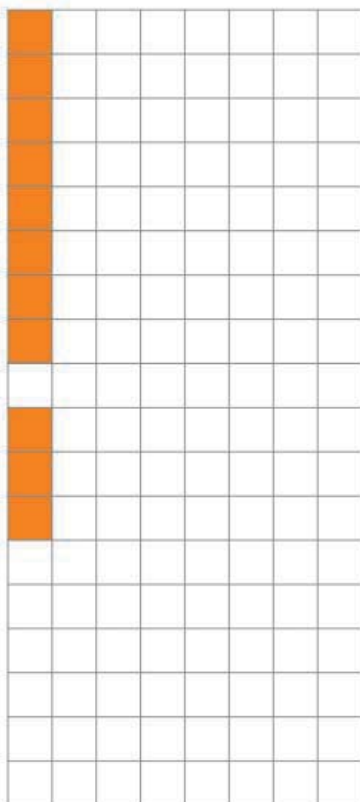





Ενότητα 4

γ. Ζωγραφίζω στο πλέγμα με το ίδιο χρώμα τα γινόμενα.


$$\begin{aligned} 3 \times 8 &= \dots\dots \\ 8 \times 3 &= \dots\dots \end{aligned}$$



$$\begin{aligned} 6 \times 8 &= \dots\dots \\ 8 \times 6 &= \dots\dots \end{aligned}$$



$$\begin{aligned} 9 \times 8 &= \dots\dots \\ 9 \times 4 &= \dots\dots \end{aligned}$$



δ. Ένα χταπόδι έχει 8 πόδια. Πόσα πόδια έχουν:

12 χταπόδια;

6 χταπόδια;

• Μια θαλάσσια χελώνα έχει 4 πόδια. Πόσα πόδια έχουν:

12 θαλάσσιες χελώνες;

6 θαλάσσιες χελώνες;

