

10

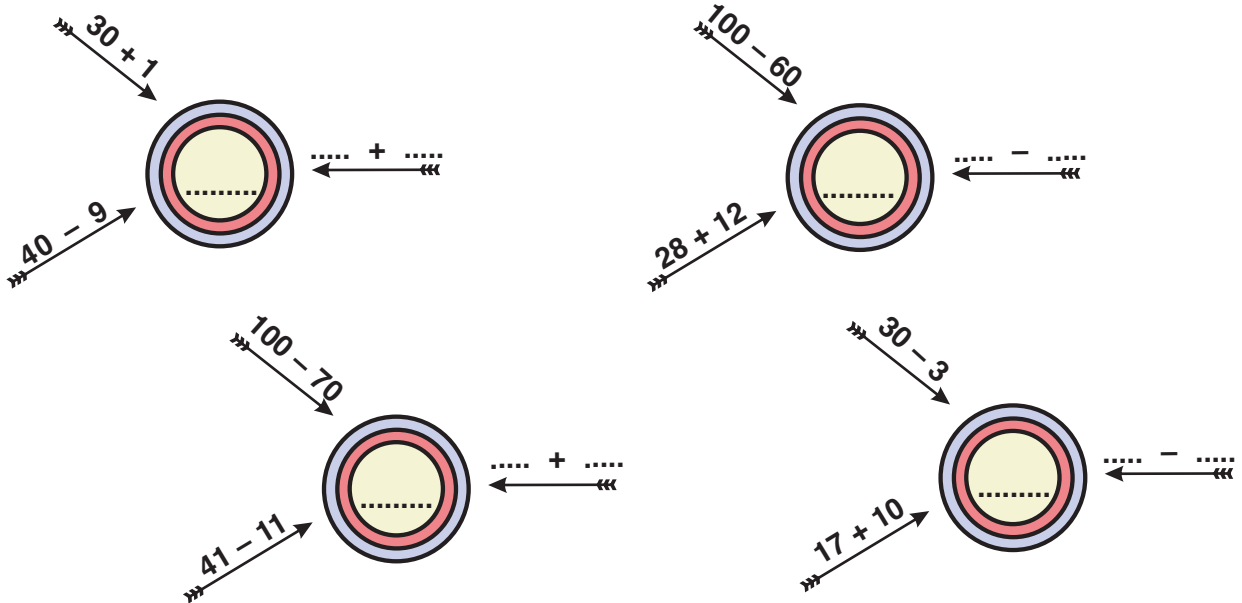
Φτιάχνω διψήφιους αριθμούς με προϋποθέσεις

- α.** Φτιάχνω ένα δρόμο με 3 κομμάτια και με συνολικό μήκος όσο λέει ο αριθμός-στόχος. Σημειώνω πόσα εκατοστόμετρα είναι το κάθε κομμάτι του δρόμου μου.




Ο διπλάνός μου φτιάχνει ένα δρόμο με 3 κομμάτια αλλά με συνολικό μήκος διπλάσιο! Δηλαδή εκ.

- β.** Βρίσκω ποιος είναι ο αριθμός-στόχος κάθε φορά και μετά προτείνω κι εγώ μια λύση.




- Σε ποιους από τους παραπάνω υπολογισμούς δυσκολεύτηκα περισσότερο; Εξηγώ:





Ενότητα 2

- γ.** Η Ελένη θέλει να φτιάξει με τη μητέρα της μπισκότα.
 Η μαμά της έφτιαξε 38 μπισκότα. Η Ελένη έφτιαξε 15 μπισκότα.
 Πόσα μπισκότα έφτιαξαν και οι δυο μαζί;
 Εκτιμώ: Περίπου



Υπολογίζω και εξηγώ με αριθμούς:

- δ.** Ο Νικόλας και η ομάδα του ζωγράφισαν 25 αυτοκινητάκια και τα τοποθέτησαν στο κολάζ τους. Πόσα πρέπει να ζωγραφίσουν ακόμα για να έχει το κολάζ 38 αυτοκινητάκια;



Υπολογίζω και εξηγώ με αριθμούς:

- ε.** Φτιάχνουμε με τον διπλανό μου με δικούς μας τρόπους τον αριθμό-στόχο.

