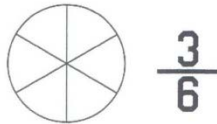
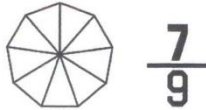
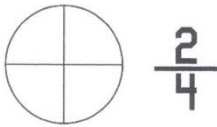
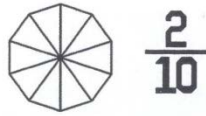
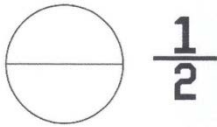




Όνομα: _____

1. Χρωματίζω αυτό που λέει το κλάσμα:



Το κλάσμα μας δείχνει σε πόσα ίσα μέρη χωρίζουμε ένα σύνολο (π.χ. ένα πορτοκάλι) και πόσα ίσα μέρη παίρνουμε απ' αυτό.

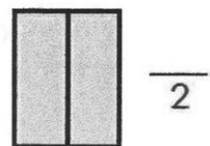
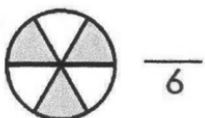
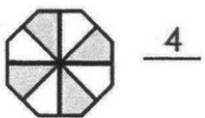
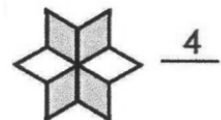
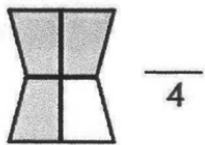
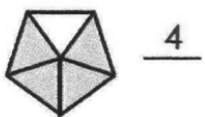
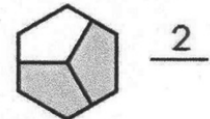

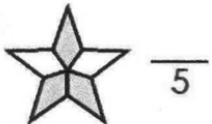
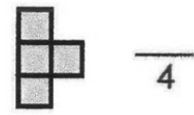
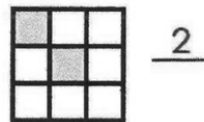

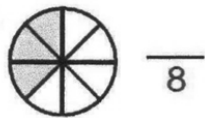
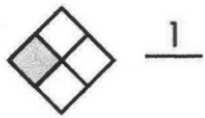
Αριθμητής ενός κλάσματος είναι ο αριθμός (πάνω απ' τη γραμμή) που μας δείχνει πόσα ίσα μέρη παίρνουμε από ένα σύνολο.

Παρονομαστής ενός κλάσματος είναι ο αριθμός (κάτω απ' τη γραμμή) που μας δείχνει σε πόσα ίσα μέρη χωρίζουμε ένα σύνολο.




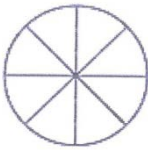


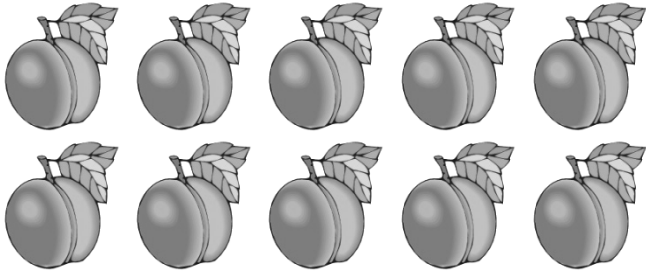
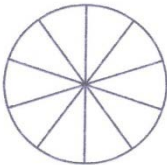
π.χ.



2. Συμπληρώνω σωστά τα κλάσματα:



3. Σχηματίζω και γράφω κλάσματα:

Δύο τρίτα		
Κυκλώνω	Χρωματίζω	Γράφω το κλάσμα
		_____
Τέσσερα όγδοα		
Κυκλώνω	Χρωματίζω	Γράφω το κλάσμα
		_____
Τρία πέμπτα		
Κυκλώνω	Χρωματίζω	Γράφω το κλάσμα
		_____
Εφτά δέκατα		
Κυκλώνω	Χρωματίζω	Γράφω το κλάσμα
		_____

4. Γράφω με αριθμητικά ψηφία τα κλάσματα:

ένα τέταρτο: _____	δύο πέμπτα: _____	εφτά όγδοα: _____
ένα πέμπτο: _____	τέσσερα έβδομα: _____	πέντε έκτα _____
τρία έβδομα: _____	πέντε όγδοα: _____	δύο όγδοα: _____
δύο τέταρτα: _____	τρία τέταρτα: _____	δύο δεύτερα _____
τρία πέμπτα: _____	έξι έβδομα: _____	ένα ένατο _____