

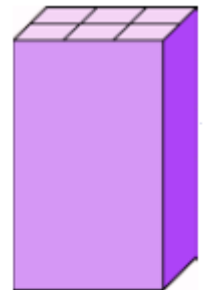
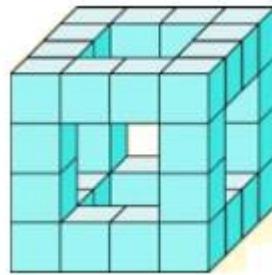
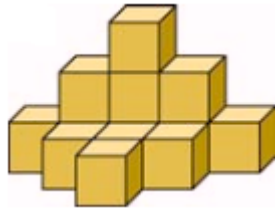
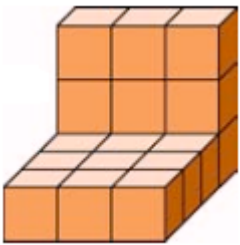
Ε' ΤΑΞΗ

49. Γεωμετρικά στερεά - Ο όγκος

Όνομα:



1. Υπολογίστε από πόσες κυβικές μονάδες αποτελούνται τα παρακάτω γεωμετρικά στερεά.



5 εκ



2. Να σχεδιάσετε έναν κύβο και ένα ορθογώνιο παραλληλεπίπεδο, με τις διαστάσεις που δίνονται.

Κύβος

Μήκος ακμής: 2 εκ.

Ορθογώνιο Παραλληλεπίπεδο

Μήκος: 5 εκ.

Πλάτος: 2 εκ.

Ύψος: 3 εκ.

