

ΟΝΟΜΑ.....



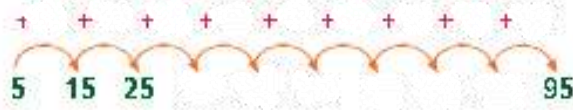
Ασκήσεις

Παρατηρώ προσεκτικά, ανακαλύπτω τον κανόνα που με βοηθάει να βρω κάθε φορά τον επόμενο αριθμό και συμπληρώνω τις αριθμογραμμές.



Ποιος είναι ο κανόνας;

Εξηγώ:



Εξηγώ:



Εξηγώ:

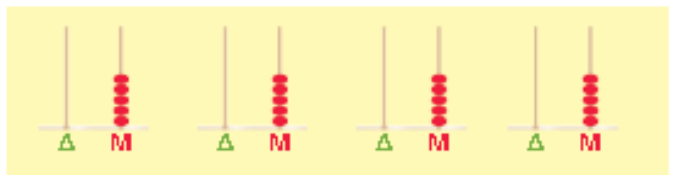
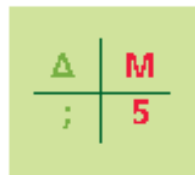


Εξηγώ:



Βρίσκω 4 διαφορετικούς διψήφιους αριθμούς που έχουν το:

- 5 στο ψηφίο των μονάδων



- 4 στο ψηφίο των δεκάδων

