



1

Μετρώ ανά 3 μέχρι το 30 και ανά 4 μέχρι το 40.

3

6

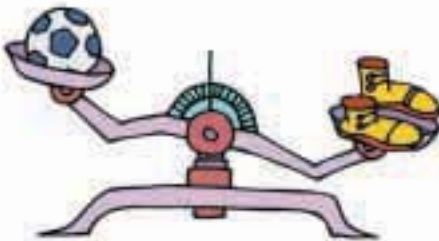
...

30




2

Βάζω σε κύκλο το βαρύτερο.



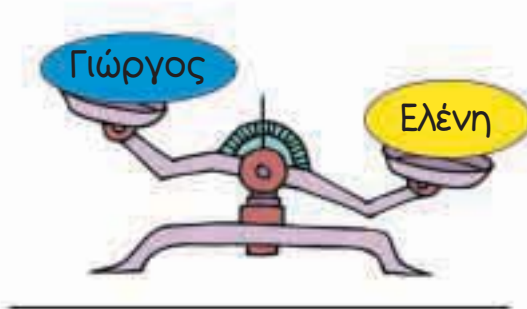
μπάλα

παπούτσια



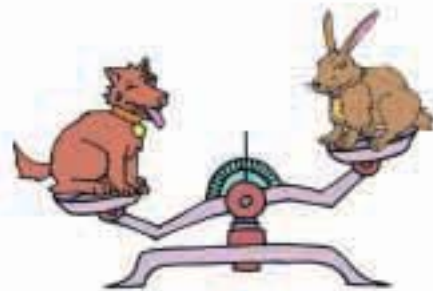
μήλο

αχλάδι



Γιώργος

Ελένη



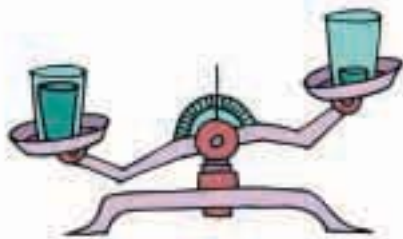
σκύλος

λαγός



3

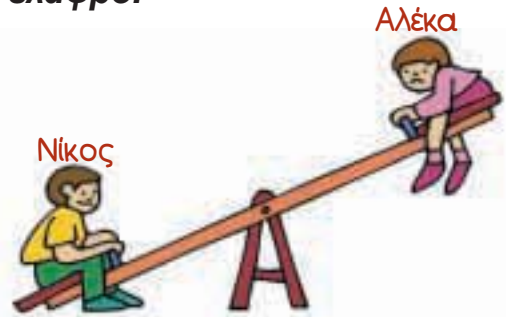
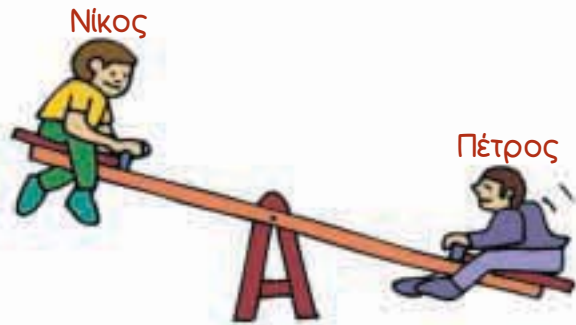
Η μία κανάτα και το ένα ποτήρι έχουν μέσα νερό,
ενώ τα άλλα είναι άδεια.
Βάζω σε κύκλο αυτά που είναι άδεια.



4



Βάζω σε σειρά τα παιδιά ξεκινώντας από το πιο βαρύ και φτάνοντας στο πιο ελαφρό.



.....

5



Ο ανελκυστήρας

Η κυρία Μαρία ζυγίζει 73 κιλά.
Ο κύριος Θεόφιλος ζυγίζει 84 κιλά.
Ποιος μπορεί να χρησιμοποιήσει τον ανελκυστήρα;

