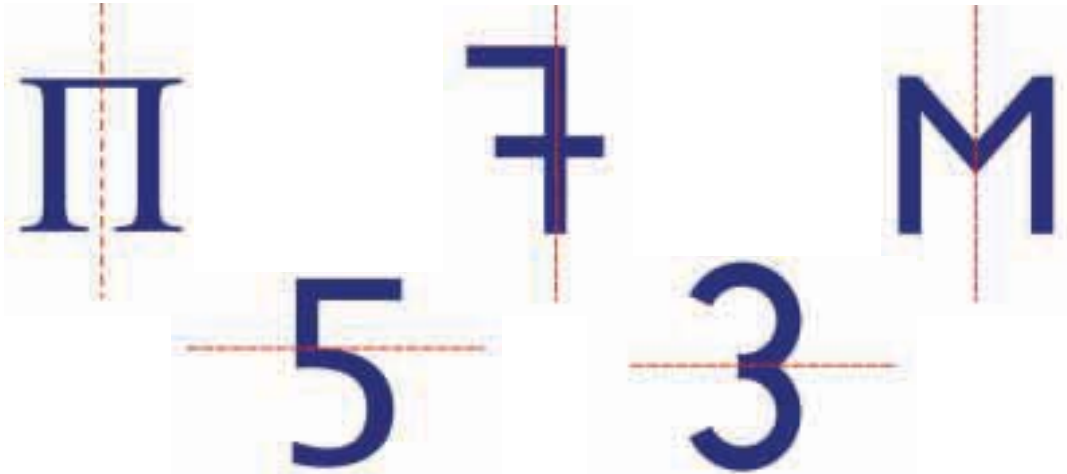




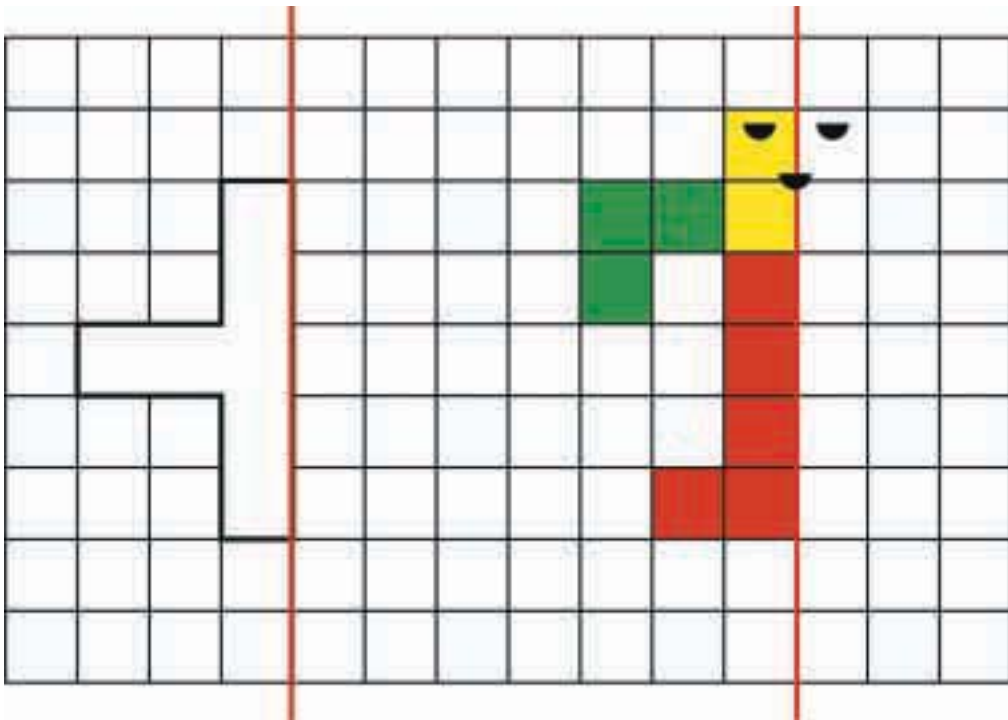
1

Φαντάζομαι τον τρόπο με τον οποίο διπλώνονται οι εικόνες και διαγράφω εκείνες στις οποίες δεν συμπίπτουν τα δύο μέρη.



2

Συμπληρώνω τα σχήματα, ώστε να γίνουν συμμετρικά ως προς την κόκκινη γραμμή. Φαντάζομαι τον τρόπο με τον οποίο διπλώνονται οι εικόνες.



3




Υπολογίζω και γράφω τα αποτελέσματα των πράξεων.

Six empty rounded rectangular boxes for writing the results of calculations, each with a different colored border: orange, yellow, purple, green, red, and blue.

4



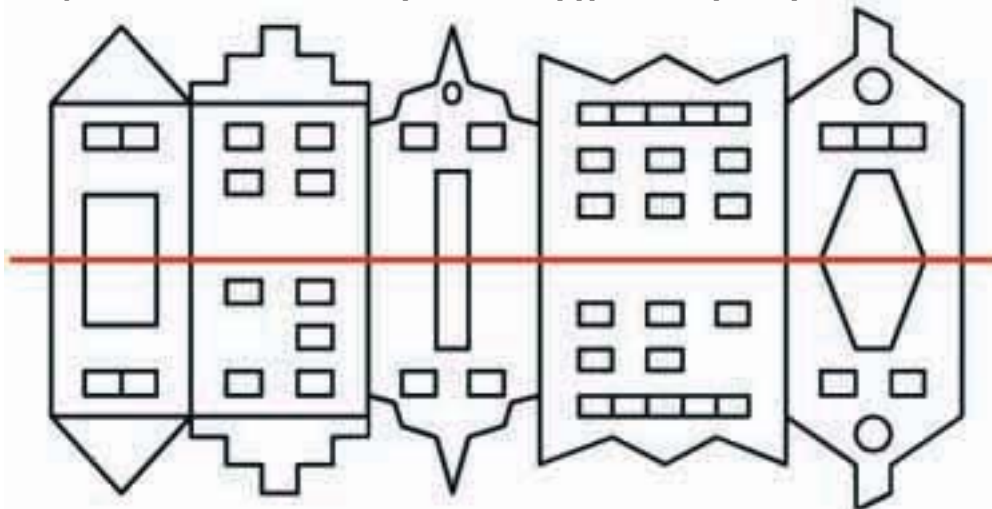
Χαράζω με το χέρι για να συμπληρώσω τα γράμματα.  
Τα γράμματα είναι συμμετρικά ως προς την κόκκινη γραμμή.



5



Βάζω σε κύκλο τα 5 λάθη που υπάρχουν στην παρακάτω εικόνα.



3. Προτείνουμε προσθέσεις και αφαιρέσεις οι οποίες προσφέρονται για επίλυση με την υπέρβαση της δεκάδας, τα διπλά αθροίσματα ή με άλλους τρόπους (π.χ.  $7 + 8$ ,  $18 - 9$ ,  $13 - 5$  κ.λπ.).