

1)



Το κουτί μου έχει μεγαλύτερη χωρητικότητα, γιατί χωράει περισσότερα λουκούμια.

Διαφωνώ! Τα δύο κουτιά έχουν την ίδια χωρητικότητα, γιατί είναι ακριβώς ίδια!





- Με ποιο παιδί συμφωνούμε; Εξηγούμε.

.....

.....

2) Συμπληρώνω:

Αν  γεμίζει περίπου , τότε ...

- Τα  γεμίζουν περίπου ποτήρια.

- Τα  γεμίζουν περίπου ποτήρια.

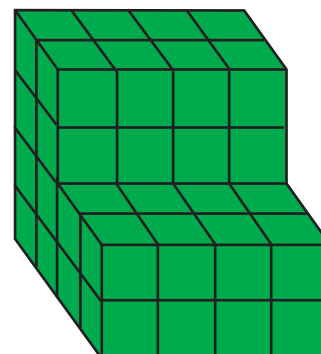
3) Πόσα  χρειάζονται ακόμα για να συμπληρωθεί ο πράσινος κύβος;

.....

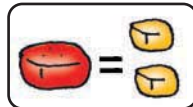
.....

.....

.....



- 4) Το κουτί χωράει 10 κόκκινα ζαχαρωτά. Αν βάλουμε κίτρινα ζαχαρωτά, πόσα θα χωράει;



- Εξηγώ πώς σκέφτηκα :

.....

.....

.....

5)



Είτε πάρω μια συσκευασία του ενός λίτρου είτε πάρω 2 συσκευασίες του μισού λίτρου είναι η ίδια ποσότητα.

Ποια είναι όμως η πιο οικονομική επιλογή;



- Εξηγούμε ποια είναι η οικονομικότερη επιλογή :

.....

.....

.....

1 λίτρο : 1,90 ευρώ
0,5 λίτρα : 1,05 ευρώ

6)



Γέμισα το δοχείο μου με νερό.



Γέμισα το δικό μου με ζάχαρη.



- Επιλέγουμε με ✓ αυτό που πιστεύουμε πως είναι σωστό.

α) Τα δύο δοχεία έχουν την ίδια χωρητικότητα.

β) Το δοχείο με τη ζάχαρη και το δοχείο με το νερό ζυγίζουν το ίδιο.

- Ελέγχουμε, κάνοντας το ίδιο πείραμα στην τάξη μας.