

1



Πόσα τετραγωνάκια είναι το μήκος κάθε μολυβιού;
Συμπληρώνω τους αντίστοιχους αριθμούς.

10	→	
	→	
	→	
	→	

2



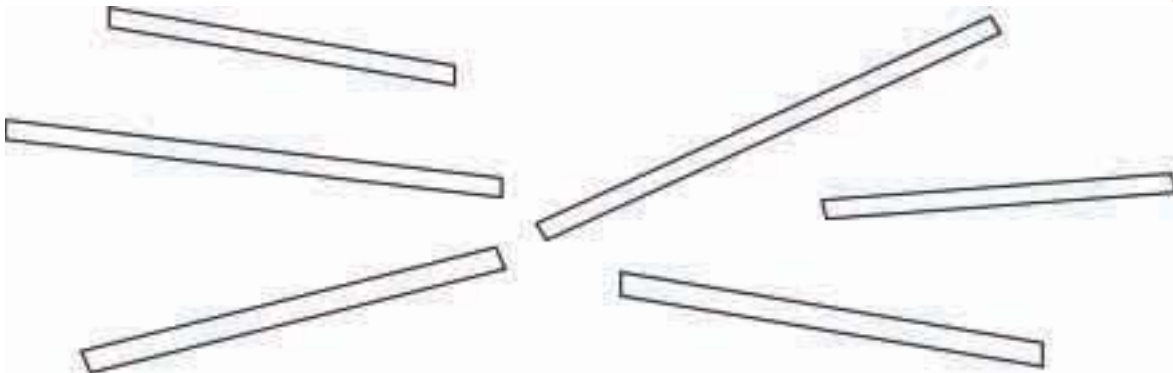
Τραβώ μια γραμμή πιο μακριά από αυτή που βλέπω
με κόκκινο χρώμα και μια πιο κοντή με πράσινο χρώμα.



3





Χρωματίζω με το ίδιο χρώμα τις ράβδους που έχουν ίδιο μήκος.





Μια κανάτα γεμίζει δύο ποτήρια.

Χρωματίζω τα ποτήρια που γεμίζουν κάθε φορά οι κανάτες.



Παρατηρώ τα χρωματισμένα σχήματα.
Χρωματίζω με το αντίστοιχο χρώμα τα ίδια σχήματα.

