

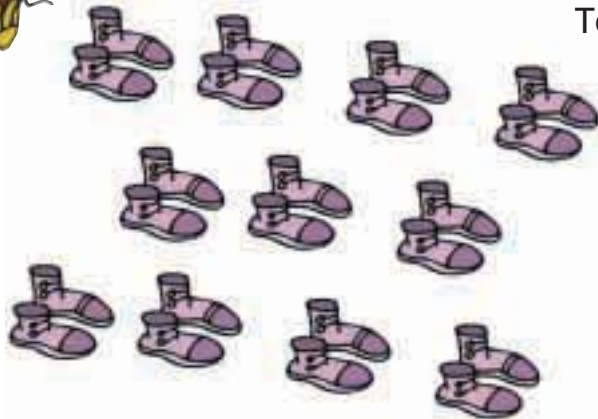


1

Μετρώ ανά 2 μέχρι το 20.



2



Τα παιδιά, πριν να μπουν στο δωμάτιο, έβγαλαν τα παπούτσια τους. Πόσα παιδιά είναι μέσα στο δωμάτιο;

Είναι παιδιά.

3



Κάθε αστερίας έχει 5 πόδια.
Πόσα πόδια έχουν οι 3 αστερίες;

 φορές το =
Οι 3 αστερίες έχουν πόδια.

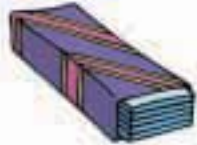
Πόσα πόδια έχουν οι 5 αστερίες;


 φορές το =
Οι 5 αστερίες έχουν πόδια.

4



Η Βάσω αγόρασε 4 πακέτα με μαστίχες. Κάθε πακέτο είχε μέσα 5 μαστίχες. Πόσες είναι όλες οι μαστίχες που αγόρασε η Βάσω;



φορές το =

Όλες οι μαστίχες είναι

Πόσα πόδια έχουν 4 σκυλιά;




φορές το =

Τα 4 σκυλιά έχουν πόδια.

5



**Μοιράζω εξίσου τα 12 αβγά στις 3 φωλιές.
Ζωγραφίζω τα αβγά στις φωλιές.**



Υπάρχουν αβγά σε κάθε φωλιά.

3 φορές το =