


52

Μαθαίνω για τα στερεά σώματα

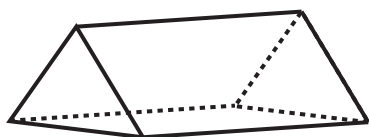
1) Ποια είδη στερεών διακρίνω στο παιχνίδι της εικόνας και πόσα απ' το κάθε είδος;

Κύβοι :

.....



2) Βρίσκω πόσες κορυφές, ακμές και έδρες έχει το παρακάτω στερεό :



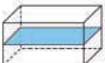


.....

3)  Καταγράφουμε τις ομοιότητες και τις διαφορές ανάμεσα στα στερεά :

Στερεά	ομοιότητες	διαφορές	Στερεά	ομοιότητες	διαφορές
	
	

4) Τι στερεά προκύπτουν αν :

- τοποθετήσω δύο  τον έναν πάνω στον άλλον;
- τοποθετήσω τρεις  τον έναν δίπλα στον άλλον;
- κόψω ένα  όπως φαίνεται στο σχήμα;.....

5) Τα παιδιά περιγράφουν στερεά. Βάζω ✓ σε όσα απ' αυτά ταιριάζουν με την περιγραφή.



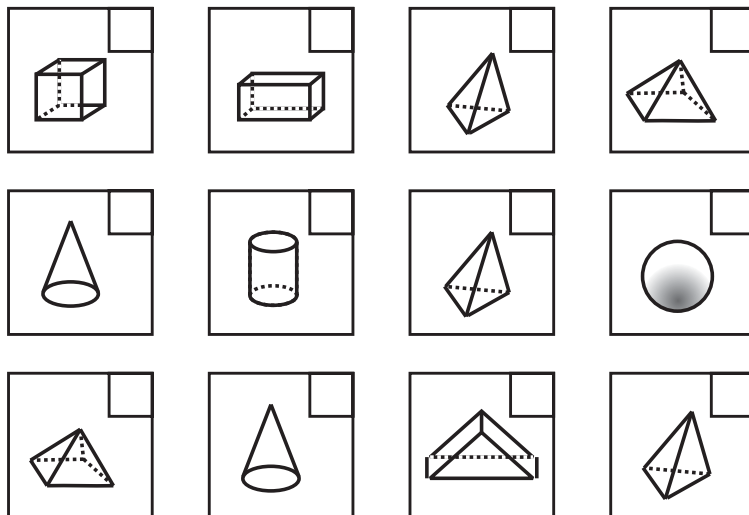
Έχει 12 ακμές και 8 κορυφές.



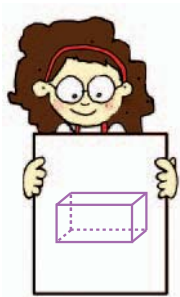
Δεν έχει καθόλου ακμές και κορυφές.



Όλες οι έδρες του είναι τρίγωνα.



6) Βοηθάμε τη Στέλλα να περιγράψει σωστά το ορθογώνιο παραλληλεπίπεδο.



.....

.....

.....

.....

.....

7) Ενώνω κατάλληλα τις κορυφές, ώστε να προκύψει ένας κύβος κι ένα ορθογώνιο παραλληλεπίπεδο.

