
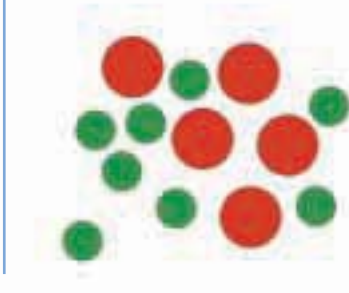





Ποιοι αριθμοί είναι;

 = Δεκάδες

 = Μονάδες




Μετρώ και γράφω τις δεκάδες και τις μονάδες.

Δ	Μ

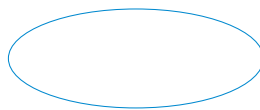
Δ	Μ

Δ	Μ

Σχηματίζω τους αριθμούς στους άβακες.



Γράφω τους αριθμούς.



2

Υπολογίζω και γράφω τις πράξεις.

Six empty rounded rectangular boxes for writing mathematical operations.

3

Το ξενοδοχείο

6ος όροφος	61		63	64		66		69	70	
	51		53	54		56		58	60	
4ος όροφος	41	42	43	44	45		47	49	50	
3ος όροφος	31	32	33	34		36	37	38	39	40
	21	22	23		25	26	27		29	30
1ος όροφος	11	12	13		15	16		18	19	20
Ισόγειο	1	2	3		5	6	7	8	9	10

Σε κάθε όροφο υπάρχουν 10 δωμάτια.

Ο Περικλής μένει στο δωμάτιο 54. Σε ποιον όροφο είναι;

Είναι στον ... όροφο.

Η Ναταλία μένει στο δωμάτιο 48 και ο Γιάννης στο δωμάτιο 70.

Μένουν στον ίδιο όροφο;

ΝΑΙ

ΟΧΙ

2. Προτείνουμε προσθέσεις και αφαιρέσεις διψήφιων αριθμών με πλήρεις δεκάδες μέχρι το 70 (π.χ. 30 + 40, 70 - 20 κ.λπ.). Προτείνουμε επίσης προσθέσεις και αφαιρέσεις διψήφιων αριθμών κατά τις οποίες ο δεύτερος αριθμός είναι διψήφιος με πλήρεις δεκάδες (π.χ. 34 + 20, 66 - 30 κ.λπ.).