

# 51

## Μετρώ το χρόνο (2)

1) Η κατασκευή του κλειστού γυμναστηρίου του 1ου Δημοτικού σχολείου Στυλίδας ξεκίνησε τον Αύγουστο του 2006 και τελείωσε μισό χρόνο αργότερα. Πότε τελείωσε το γυμναστήριο;

- Εκτιμώ αν τελείωσε μέσα στο 2006.

.....



2) Συμπληρώνω και υπολογίζω την ηλικία μου :

Γεννήθηκα το μήνα .....

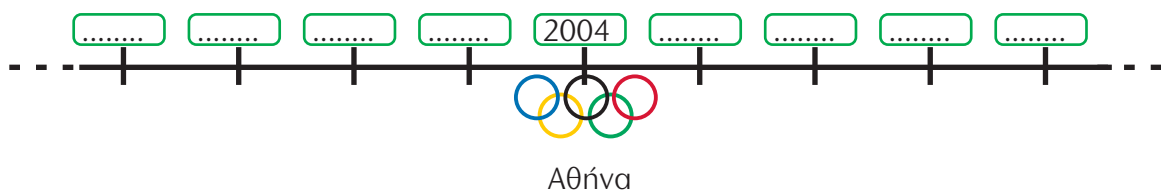
του έτους .....

Είμαι ..... χρονών και ..... μηνών.



Υπολογίζω πόσο χρονών και πόσο μηνών είναι κάθε μέλος της οικογένειάς μου.

3) Συμπληρώνω το μοτίβο των δισεκτων ετών :



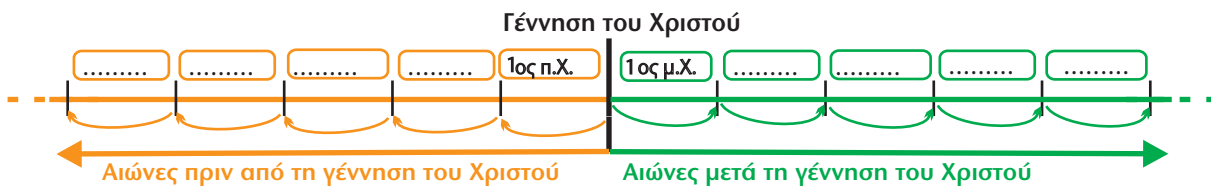
4) Συμπληρώνω κατάλληλα :

- 150 χρόνια → 1 αιώνας ..... χρόνια
- 26 μήνες → ..... έτ... ..... μήνες
- 1.200 χρόνια → ..... χιλιετία ..... αιώνες
- 2.550 χρόνια → ..... χιλιετί... ..... αιώνες ..... χρόνια
- ..... → 15 αιώνες
- ..... → 3 χιλιετίες 3 αιώνες 3 χρόνια


- 5) Ο Φάρος της Αλεξάνδρειας και το Χρυσελεφάντινο Άγαλμα του Δία στην Ολυμπία είναι δύο από τα επτά θαύματα του αρχαίου κόσμου. Ο Φάρος χτίστηκε τον 3ο αιώνα π.Χ. και το Άγαλμα τον 5ο αιώνα π.Χ.



- Ποιο από τα δύο έργα είναι αρχαιότερο ; .....
- Συμπληρώνω τους αιώνες στην ιστορική γραμμή.



- 6) Ο ναός του Παρθενώνα, στην Ακρόπολη των Αθηνών, ολοκληρώθηκε το 438 π.Χ. Πόσα χρόνια έχουν περάσει από τότε ως σήμερα ;



Εξηγούμε προφορικά πώς το υπολογίζουμε.

Έχουν περάσει ..... χρόνια ή ..... αιώνες και ..... χρόνια.

- 7) Τρεις αιώνες και 93 χρόνια μετά τη γέννηση του Χριστού έγιναν οι **τελευταίοι Ολυμπιακοί Αγώνες του αρχαίου κόσμου**. 15 αιώνες και 3 χρόνια αργότερα έγιναν **οι πρώτοι Ολυμπιακοί Αγώνες της σύγχρονης εποχής** στην Αθήνα. Υπολογίζουμε τις **δύο** παραπάνω **χρονολογίες** και τις τοποθετούμε στην ιστορική γραμμή:

