
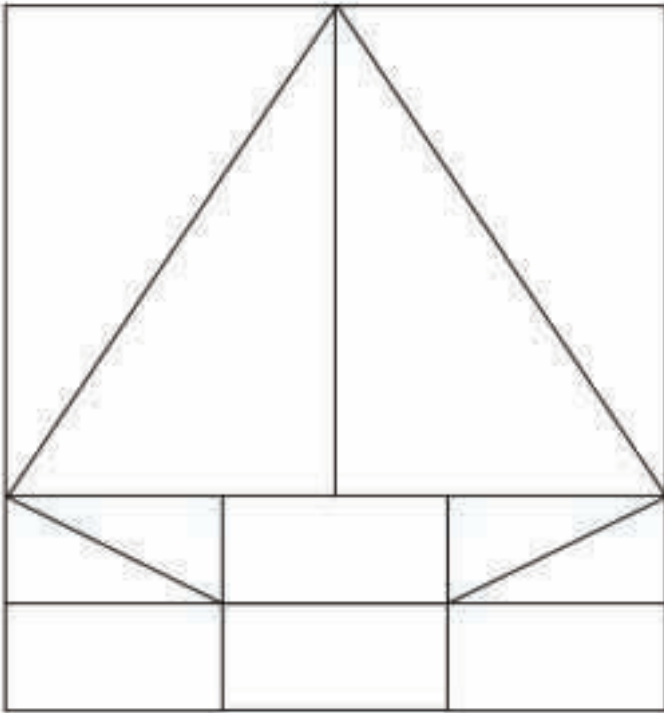




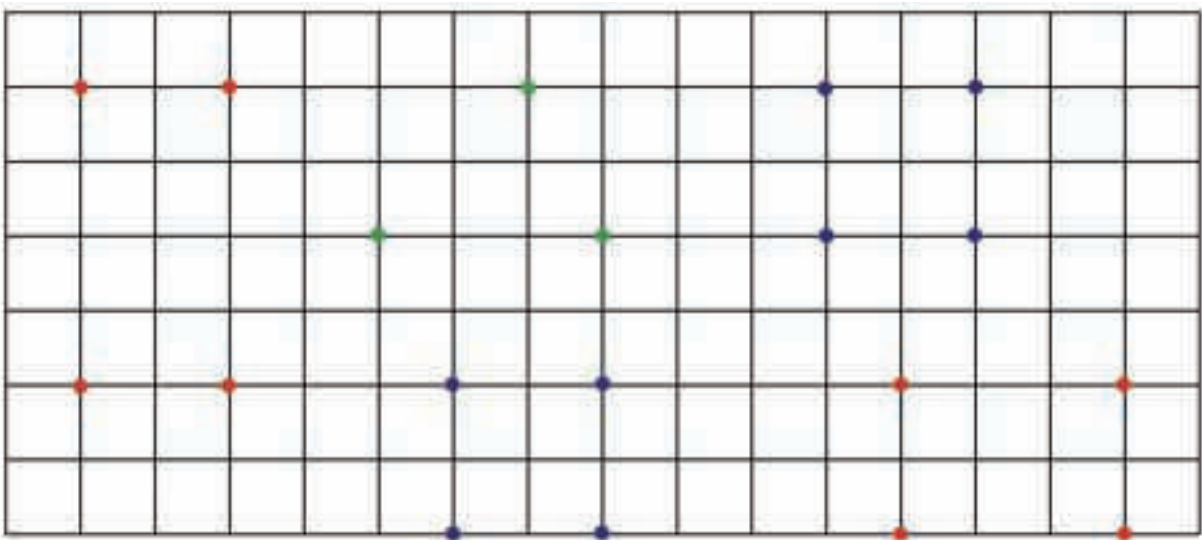
Μετρώ και γράφω τον αριθμό των σχημάτων της παρακάτω εικόνας.



1



Ενώνω με το χάρακα τα σημεία που έχουν το ίδιο χρώμα.  
Ονομάζω τα σχήματα που δημιουργούνται με αυτόν τον τρόπο  
και τα χρωματίζω με το αντίστοιχο χρώμα των σημείων.



2

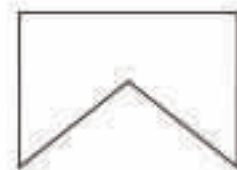
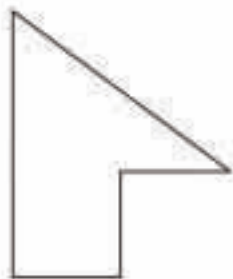
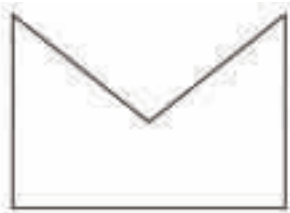


Υπολογίζω και γράφω αθροίσματα με τρεις προσθετέους.

Five empty rounded rectangular boxes for writing addition problems.



Ενώνω με μια γραμμή τα κομμάτια που, αν συνδεθούν, σχηματίζουν ένα τετράγωνο, τρίγωνο ή ορθογώνιο.



3. Προτείνουμε προσθέσεις μέχρι το 10 με τρεις προσθετέους, στις οποίες οι δύο προσθετέοι είναι όμοιοι (π.χ.  $2 + 2 + 3$ ,  $3 + 3 + 2$  κ.λπ.).