




44

Μαθαίνω για την αναγωγή στη μονάδα

- 1) Η Ηρώ με το σχεδιαστικό πρόγραμμα του υπολογιστή της έφτιαξε ένα εξαγώνο. Όλες οι πλευρές του είναι ίσες. Αν οι 2 κόκκινες πλευρές έχουν συνολικό μήκος 24 εκ., πόση είναι η περίμετρος του εξαγώνου;



2)





Το ακριβότερο μπαχαρικό του κόσμου παράγεται στην Κοζάνη και είναι ο κρόκος (σαφράν).


Συμπληρώνω στον πίνακα ό,τι λείπει:

Κρόκος	18 κ.	2 κ.	250 γραμμ.
Τιμή	15.120 €

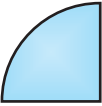
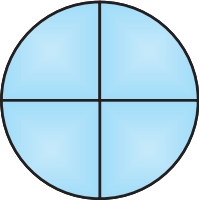
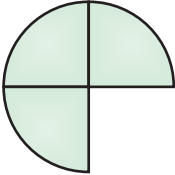
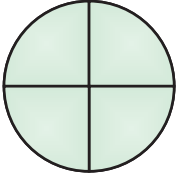
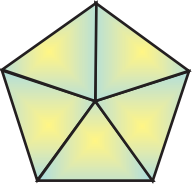
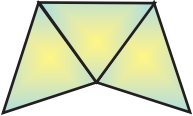

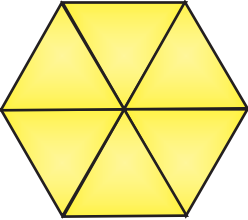


- 3) Η μητέρα της Στέλλας αγόρασε μισό κιλό φέτα και πλήρωσε 6,50 €. Ο πατέρας του Σαλ αγόρασε 3 κιλά από την ίδια φέτα. Πόσα πλήρωσε;



4) Ένα τέταρτο του κιλού ανθότυρο κοστίζει 75 λεπτά. Πόσο κοστίζουν τα 2 κιλά;



5) Παρατηρώ και συμπληρώνω:

• Αν  = 1,25	τότε:  =
• Αν  = 24	τότε:  =
• Αν  = 100	τότε:  =
• Αν  = 1	τότε:  =
• Αν  = 0,75	τότε:  =