





1


### Οι δεινόσαυροι



Στεγόσαυρος  
1.398 κιλά



Βροντόσαυρος  
1.147 κιλά



Τυραννόσαυρος  
1.875 κιλά



Πόσο ζυγίζουν όλοι μαζί;

.....



2

Η Σοφία έχει μια μεγάλη συλλογή από κασέτες και CD. Σε κάθε πράσινο κουτί υπάρχουν 48 κασέτες και σε κάθε κόκκινο κουτί υπάρχουν 72 CD.



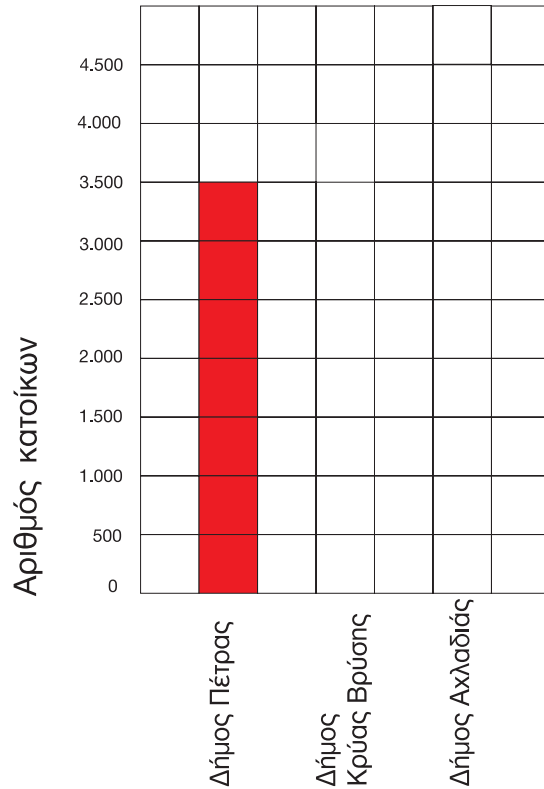
1. Πόσες κασέτες έχει στη συλλογή της; .....
2. Πόσα CD έχει στη συλλογή της; .....
3. Έχει περισσότερες κασέτες ή CD; .....

3



Διαβάζω τις πληροφορίες και συμπληρώνω στο διάγραμμα τους πληθυσμούς των δήμων.

- Ο Δήμος Κρύας Βρύσης έχει 2.500 κατοίκους.
- Ο Δήμος Πέτρας έχει 3.500 κατοίκους.
- Ο Δήμος Αχλαδιάς έχει 4.000 κατοίκους.



4



Γράφω ένα πρόβλημα και ζωγραφίζω μια σχετική εικόνα. Το δίνω στο διπλανό μου να το λύσει.

.....

.....

.....

