



1

Πόσα κιλά είσαι;

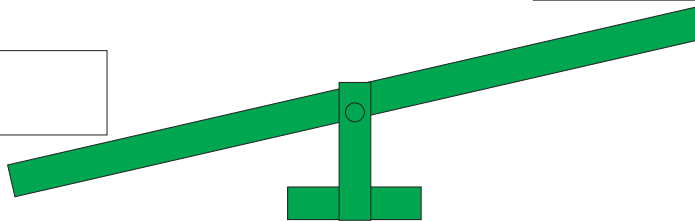


Γράψε τι έδειξε η ζυγαριά.



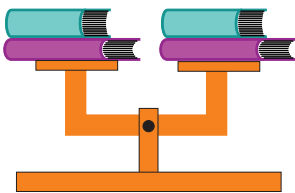
Είμαι ..... κιλά.  
Ο διπλανός μου είναι..... κιλά.

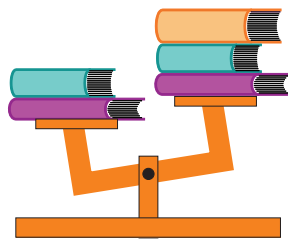
Ποιος ζυγίζει περισσότερα κιλά; Εσύ ή ο διπλανός σου;  
Βάλε τα ονόματά σας στη σωστή θέση στην τραμπάλα.

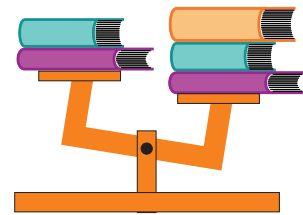



2

Βάλε ένα ✓ στις εικόνες που σου φαίνονται σωστές



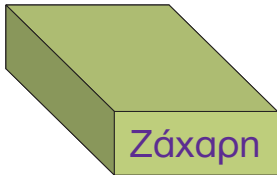




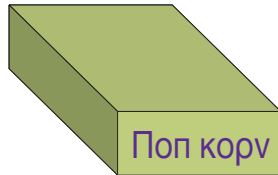
3



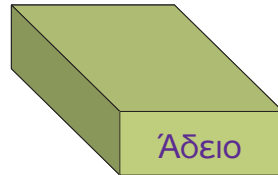
Όλα τα κουτιά έχουν το ίδιο μέγεθος.  
 Ποιο είναι βαρύτερο;  
 Γράψε τους αριθμούς στη σειρά, από το βαρύτερο στο ελαφρύτερο.



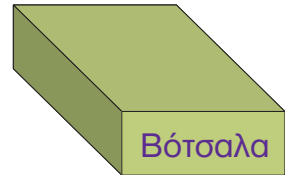
1



2



3



4

.....

4



### Ο Χοντρός και ο Λιγνός



Ο Χοντρός και ο Λιγνός μαζί ζυγίζουν 164 κιλά.  
 Ο Χοντρός ζυγίζει 106 κιλά.  
 Πόσα κιλά ζυγίζει ο Λιγνός;

.....

.....

5



### Πόσο ζυγίζει το καθένα; Σχεδιάζω το δείκτη στη ζυγαριά.

