



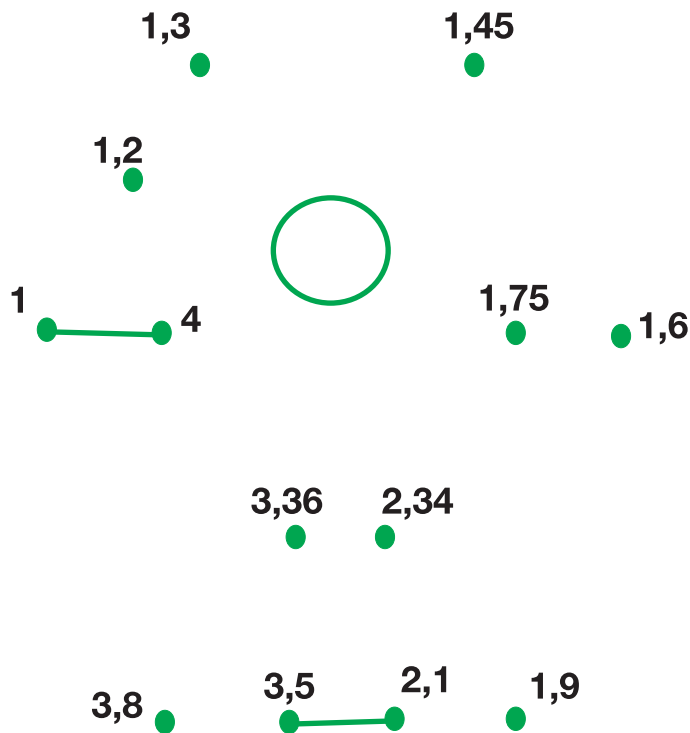
1

Γράφω τα ποσά των ευρώ με αριθμούς.



2

Ενώνω τους αριθμούς με τη σειρά, για να σχηματίσω την εικόνα.



3

Τοποθετώ την υποδιαστολή στους παρακάτω αριθμούς με τέτοιον τρόπο, ώστε ο αριθμός 4 να είναι το ψηφίο που δείχνει τα δέκατα στον κάθε αριθμό.

2614	5842	364	2467	14	963543
↓	↓	↓	↓	↓	↓
261,4					



4

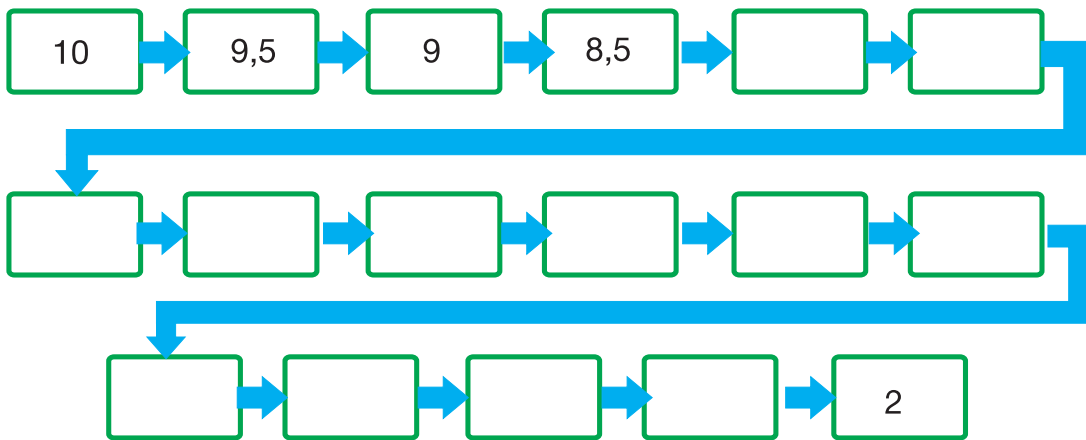
Γράφω δεκαδικούς αριθμούς.

Six empty rounded rectangular boxes for writing decimal numbers, colored orange, green, purple, light green, yellow, and blue from left to right.



5

Παρατηρώ τη σειρά των αριθμών και συμπληρώνω τους αριθμούς που λείπουν.



6

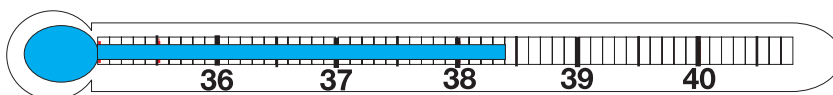
Βρίσκω και συμπληρώνω τον αριθμό.

- | | |
|-----------------------|-----------------------|
| $3,6 < \dots < 4$ | $7,9 < \dots < 8$ |
| $0,3 < \dots < 0,4$ | $7,09 < \dots < 8$ |
| $25 < \dots < 26$ | $0,1 < \dots < 0,3$ |
| $25,5 < \dots < 26,5$ | $0,60 < \dots < 0,70$ |



7

Πόσο πυρετό έχει ο Πέτρος;



.....