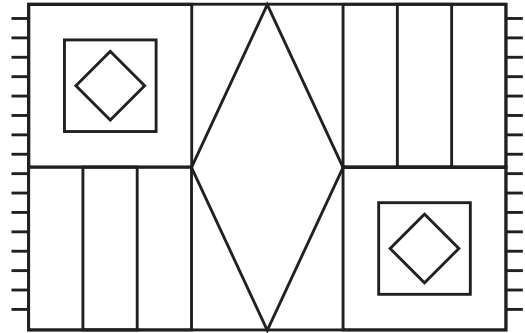
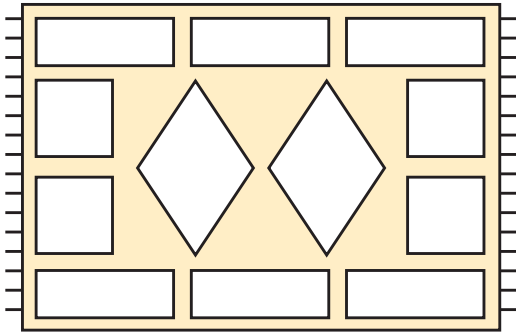


1) Παρατηρώ και συνεχίζω:



• Χρωματίζω :

- τα τετράγωνα
- τα ορθογώνια
- τους ρόμβους

• Μετρώ πόσα είναι :

- τα τετράγωνα
- τα ορθογώνια
- οι ρόμβοι



Βρήκα περισσότερα από 6 ορθογώνια



Συμφωνούμε; Εξηγούμε :

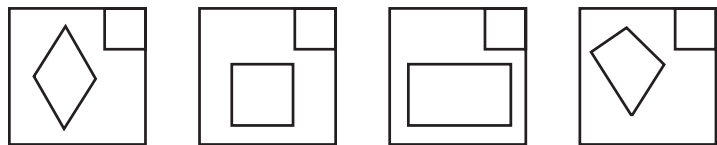
.....

.....

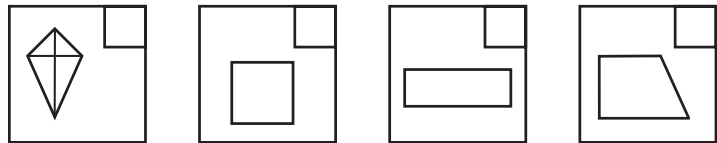
2) Ποια τετράπλευρα ταιριάζουν με την περιγραφή; Βάζω ✓



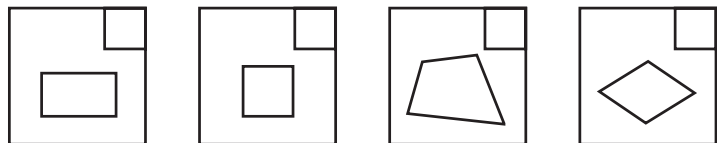
Όλες οι πλευρές του είναι ίσες



Το σχήμα αυτό έχει 4 πλευρές και 4 ορθές γωνίες




Στο σχήμα αυτό οι απέναντι πλευρές είναι ίσες



3)



Βοηθάμε το Νικήτα να περιγράψει σωστά το τετράγωνο.



.....

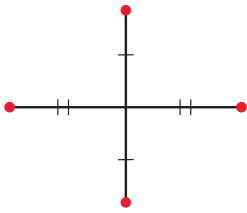
4)

Τι σχήμα θα προκύπτει κάθε φορά, αν ενώνω τις χρωματισμένες κουκκίδες;

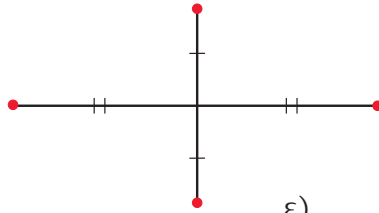


• Προβλέπω:

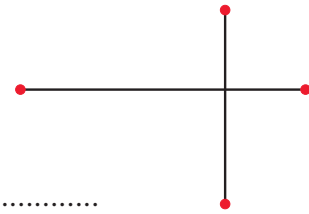
α)



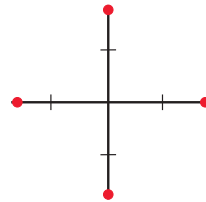
β)



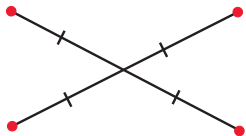
γ)



ε)




δ)



• Ελέγχω τις προβλέψεις μου ενώνοντας τις κουκκίδες.

5)

Σχεδιάζω ένα τετράγωνο με περίμετρο 8 εκ.



• Συμπληρώνω το σχήμα, ώστε να προκύψει ένα ορθογώνιο παρ/μο με περίμετρο 10 εκ.

