

Αφαίρεση με αφαιρετέο μεγάλο αριθμό



1

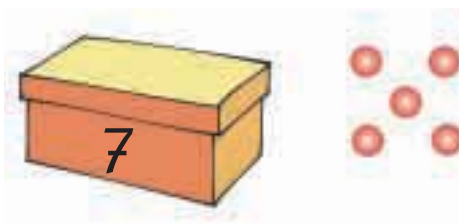
Μετρώ ανά 2.



2



Μέσα στο κουτί υπάρχουν 7 βόλοι.
Βγάζουμε τους 5. Πόσοι βόλοι έμειναν;

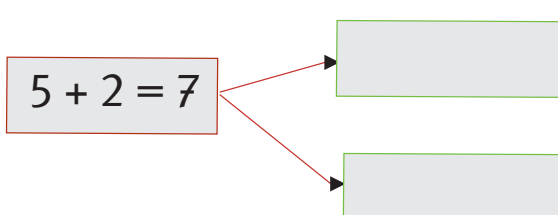
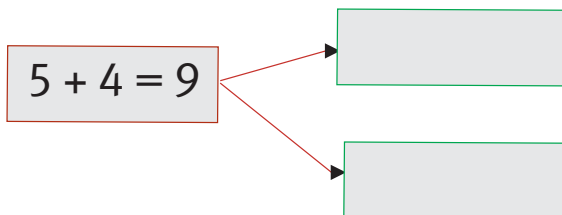
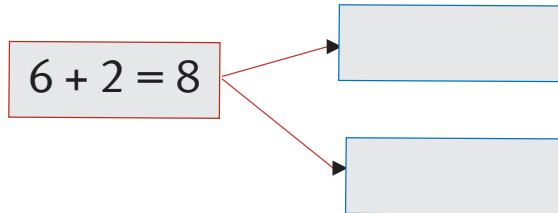
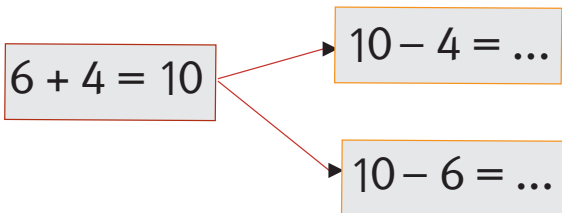


$$\square - \square = \square$$


3



Από την πρόσθεση βρίσκω τις δύο αφαιρέσεις.




4



■ Τα πρόβατα είναι

■ Τα γουρούνια είναι

■ Τα πρόβατα είναι περισσότερα.



$$\dots - \dots = \dots$$

5



Διατυπώνω ένα δικό μου πρόβλημα.

$$10 - 8 = \dots$$

$$9 - 7 = \dots$$

$$6 - 5 = \dots$$

6



Υπολογίζω και συμπληρώνω τις παρακάτω πράξεις.

$$7 + 3 = \dots \quad 10 - 5 = \dots \quad 5 + 3 = \dots$$

$$10 - 7 = \dots \quad 1 + 7 = \dots \quad 8 - 5 = \dots$$

$$5 + 5 = \dots \quad 8 - 7 = \dots \quad 8 - 3 = \dots$$