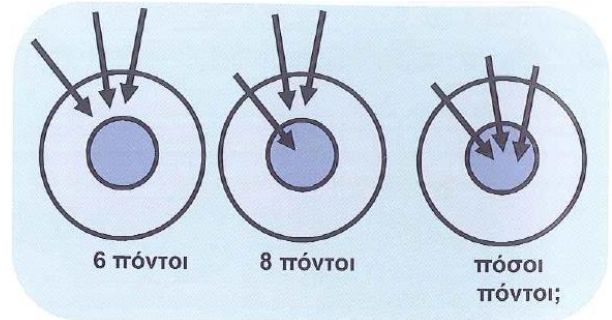


Εβδομαδιαίο φύλλο ασκήσεων 2

Ερώτηση 1

Η Άρτεμις έριξε τα τρία βέλη της στον στόχο. Την πρώτη φορά πήρε 6 πόντους, όπως στην αριστερή εικόνα. Την δεύτερη φορά πήρε 8 πόντους, όπως στην μεσαία εικόνα. Πόσους πόντους πήρε την τρίτη φορά;



- A) 8                      B) 10                      Γ) 12  
Δ) 14                      E) 16

Ερώτηση 2

Τα σπίτια σε ένα δρόμο είναι αριθμημένα με τη σειρά από τον αριθμό 25 μέχρι και τον 57. Πόσα σπίτια έχει ο δρόμος;



- A) 31                      B) 32                      Γ) 33                      Δ) 34                      E) 35

Ερώτηση 3

Τι πρέπει να γράφει στο σύννεφο με το ";" για να είναι σωστές οι οδηγίες;




- A) πολλαπλασίασε επί 6                      B) διαίρεσε δια 24  
Γ) διαίρεσε δια 8                                      Δ) αφάιρεσε 46                                      E) διαίρεσε δια 6

Η Γνώση με τρόπο απλό και κατανοητό!

### Ερώτηση 4

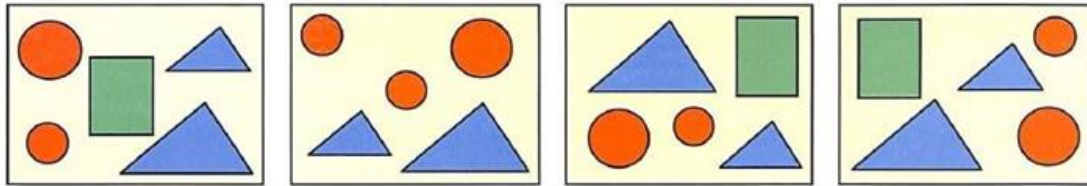
Πόσα πιο πολλά είναι τα γκρι τετραγωνάκια από τα άσπρα τετραγωνάκια στο σχήμα;



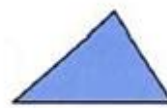
- A) 5      B) 6      Γ) 7      Δ) 8      Ε) 9

### Ερώτηση 5

Ποιο σχήμα λείπει από μία από τις ζωγραφιές;



- A)      B)      Γ)      Δ)      Ε)



### Ερώτηση 6

Σε μία οικογένεια υπάρχουν 5 παιδιά. Από αυτά η Καίτη είναι 2 χρόνια μεγαλύτερη από τη Βάσω αλλά 2 χρόνια μικρότερη από τον Δημήτρη. Ο Τάσος είναι 3 χρόνια μεγαλύτερος από την Άννα. Η Βάσω και η Άννα είναι δίδυμες. Ποιο παιδί είναι το πιο μεγάλο;

- A) η Άννα      B) η Βάσω      Γ) ο Δημήτρης      Δ) η Καίτη      Ε) ο Τάσος

### Ερώτηση 7

Ο Νίκος έχει 9 καραμέλες και η Νίκη έχει 17 καραμέλες. Πόσες καραμέλες πρέπει να δώσει η Νίκη στον Νίκο για να έχουν και οι δύο τον ίδιο αριθμό από καραμέλες;



- A) 2      B) 3      Γ) 4      Δ) 5      Ε) 6

Η Γνώση με τρόπο απλό και κατανοητό!

### Ερώτηση 8

Κόψαμε με το ψαλίδι ένα ορθογώνιο παραλληλόγραμμο σε δυο κομμάτια. Το ένα κομμάτι φαίνεται δεξιά με γκρι χρώμα. Ποιο είναι το άλλο κομμάτι;



- A)                      B)                      Γ)                      Δ)                      Ε)



### Ερώτηση 9

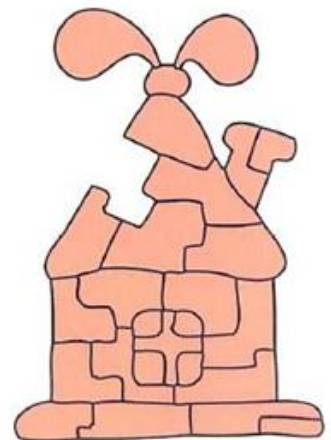
Ένα καγκουρό ξέρει να γράφει μόνο τους αριθμούς που περιέχουν τα ψηφία 1, 2, 3, όπως για παράδειγμα τον 121. Πόσους αριθμούς μικρότερους από το 32 ξέρει να γράφει;

- A) 5                      B) 7                      Γ) 8                      Δ) 10                      Ε) 12

### Ερώτηση 10

Ποιο κομμάτι λείπει από το παζλ;

- A)                      B)                      Γ)
- Δ)                      Ε)
- 



Η Γνώση με τρόπο απλό και κατανοητό!

### Ερώτηση 11

Πόσους βάτραχους έπιασαν συνολικά οι τρεις πελεκάνοι; Να τι είπαν οι ίδιοι.



- A) 1      B) 2      Γ) 4      Δ) 9      Ε) 12

### Ερώτηση 12

Ποια από τις παρακάτω εικόνες είναι ίδια με την εικόνα δεξιά, αφού την γυρίσουμε στην ίδια θέση;

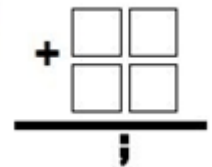
- A)      B)      Γ)      Δ)      Ε)



### Ερώτηση 13

Βάζουμε τα ψηφία 2, 3, 4 και 5 στα κουτάκια και μετά προσθέτουμε τους διψήφιους που προκύπτουν. Ποιο είναι το μεγαλύτερο δυνατό άθροισμα που μπορούμε να βρούμε;

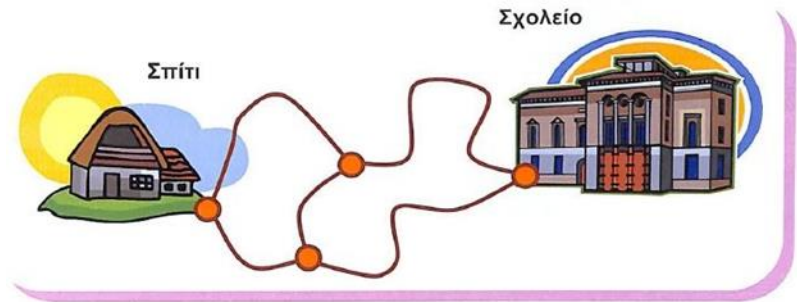
- A) 95      B) 86      Γ) 77      Δ) 68      Ε) 59



Η Γνώση με τρόπο απλό και κατανοητό!

### Ερώτηση 14

Πόσες διαφορετικές διαδρομές υπάρχουν από το Σπίτι στο Σχολείο αν δεν πρέπει να περάσουμε δυο φορές από το ίδιο σημείο;



A) 2

B) 3

Γ) 4

Δ) 5

Ε) 6

Η Γνώση με τρόπο απλό και κατανοητό!