

1



Γράφω τις σωστές πράξεις μέσα στα πέταλα των λουλουδιών.

$$7 - 1$$

$$4 + 1$$

$$7 - 2$$


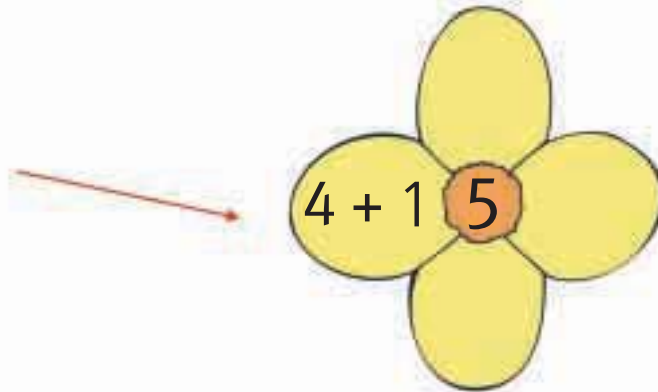
$$4 + 2$$

$$2 + 3$$

$$8 - 2$$

$$3 + 3$$

$$8 - 3$$



2



Βάφω τα μπαλόνια με το χρώμα που ταιριάζει.





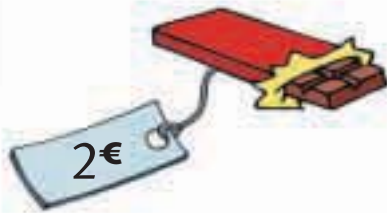
Γράφω τις προσθέσεις και τις αφαιρέσεις και υπολογίζω τα αποτελέσματα.

Six empty rounded rectangular boxes for writing arithmetic problems.



Λύνω τα προβλήματα και γράφω τις πράξεις.

Έχω 5 € και αγοράζω μια σοκολάτα που κοστίζει 2 €. Πόσα ρέστα θα πάρω;



Γράφω την πράξη:

Empty box for writing the subtraction problem.

Όλα τα κεριά ήταν 4. Έσβησαν τα 3. Πόσα κεριά μένουν αναμμένα;



Γράφω την πράξη:

Empty box for writing the subtraction problem.



Από την πρόσθεση βρίσκω τις δύο αφαιρέσεις.

$3 + 2 = 5$

$5 - 3 = 2$

$5 - 2 = 3$

$3 + 1 = 4$

Empty box for the subtraction problem derived from 3 + 1 = 4.

Empty box for the subtraction problem derived from 3 + 1 = 4.

$4 + 2 = 6$

Empty box for the subtraction problem derived from 4 + 2 = 6.

Empty box for the subtraction problem derived from 4 + 2 = 6.

$4 + 3 = 7$

Empty box for the subtraction problem derived from 4 + 3 = 7.

Empty box for the subtraction problem derived from 4 + 3 = 7.

3. Η δασκάλα προτείνει προβλήματα πρόσθεσης και αφαίρεσης. Οι μαθητές γράφουν τις πράξεις και το αποτέλεσμα.