
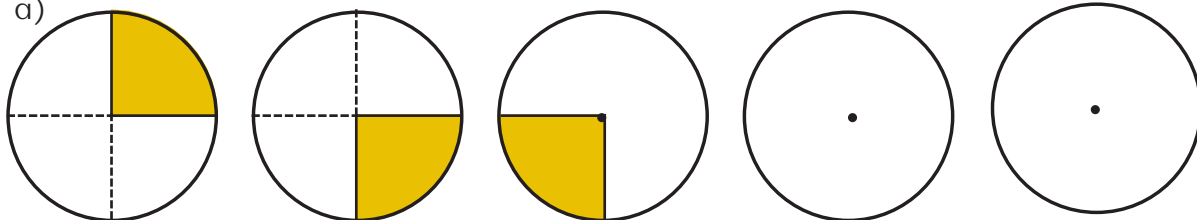


28

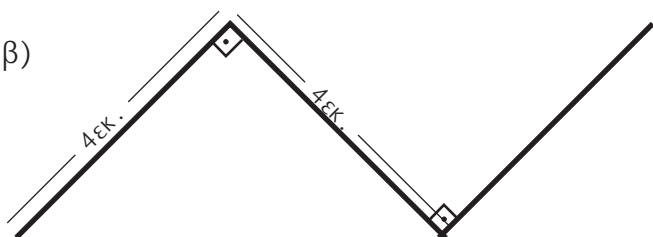
Σχεδιάζω κάθετες μεταξύ τους ευθείες

1) Παρατηρώ και συνεχίζω: 

α)




β)



2) Σχεδιάζω ένα τετράπλευρο που έχει μόνο μία ορθή γωνία:

3) Σχεδιάζω ένα πολύγωνο που έχει μόνο δύο ορθές γωνίες:

- 4)  Ποιο παιδί έχει χαράξει σωστά την **απόσταση** από το σημείο A στην ευθεία (ε);




Εξηγούμε:

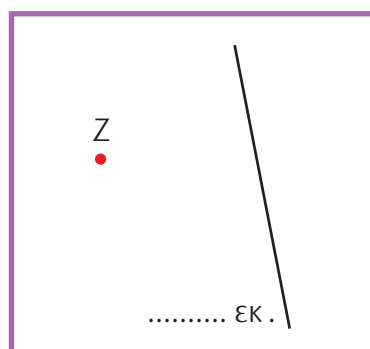
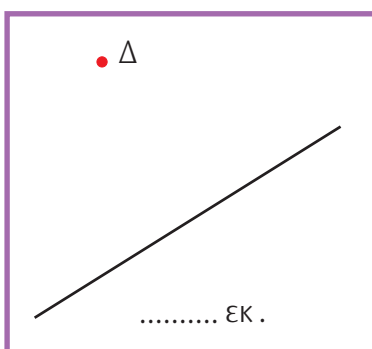
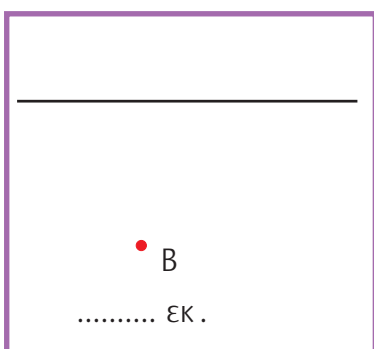
.....

.....


.....



- 5) Χαράζω την απόσταση του κάθε σημείου από την ευθεία και μετρώ το μήκος της.



- 6) Η Ηρώ και ο Πέτρος φυτεύουν λουλούδια σε βραγιάς. Συμφώνησαν να αφήνουν τις ίδιες αποστάσεις ανάμεσα στα λουλούδια τους. Σε ποια βραγιά μπορούν να φυτευτούν περισσότερα λουλούδια, στου Πέτρου ή στις Ηρώς;



- Εκτιμώ και εξηγώ γιατί:

.....

.....

.....

.....

.....

.....

.....