

## Αφαίρεση με αφαιρετέο μικρό αριθμό



1

Αριθμώ αντίστροφα ξεκινώντας από το 20.

20

19

18


...

1



2

Το καλάθι είχε 10 καρότα. Το κουνέλι έφαγε 3 καρότα.  
Πόσα καρότα έμειναν μέσα στο καλάθι;



$$\dots - \dots = \dots$$

Ο Μενέλαος είχε 8 γραμματόσημα στη συλλογή του. Έδωσε



γραμματόσημα στον Νίκο.


Πόσα γραμματόσημα έχει τώρα;

$$\dots - \dots = \dots$$


3



Συμπληρώνω τους αριθμούς στις ισότητες.



 $5 - 2 = \dots$


 $\dots - \dots = \dots$


 $\dots - \dots = \dots$


 $\dots - \dots = \dots$


 $\dots - \dots = \dots$


 $\dots - \dots = \dots$

4



Υπολογίζω τις πράξεις και συμπληρώνω τους αριθμούς.

$4 - 1 = \dots$       $3 - 1 = \dots$       $7 - 1 = \dots$

$3 + 1 = \dots$       $2 + 1 = \dots$       $6 + 1 = \dots$

$5 - 3 = \dots$       $6 - 1 = \dots$       $4 - 2 = \dots$

$2 + 3 = \dots$       $5 + 1 = \dots$       $2 + 2 = \dots$

1



Γράφω τις σωστές πράξεις μέσα στα πέταλα των λουλουδιών.

$$7 - 1$$

$$4 + 1$$

$$7 - 2$$


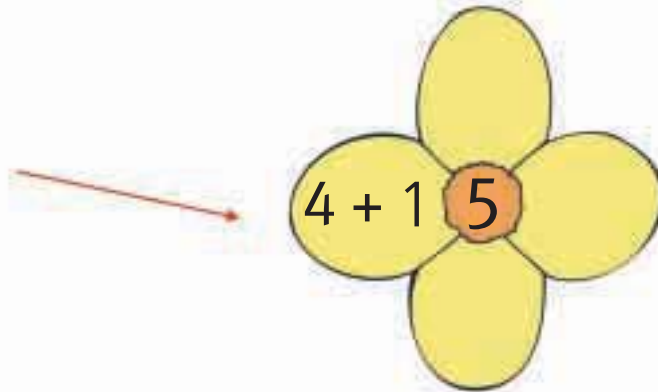
$$4 + 2$$

$$2 + 3$$

$$8 - 2$$

$$3 + 3$$

$$8 - 3$$



2



Βάφω τα μπαλόνια με το χρώμα που ταιριάζει.

