


# 27

## Γνωρίζω τις παράλληλες και τις τεμνόμενες ευθείες

- 1)  Πού συναντάμε παράλληλες γραμμές στην καθημερινή μας ζωή; Γράφουμε μερικά παραδείγματα :

.....

.....

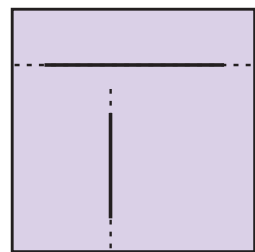
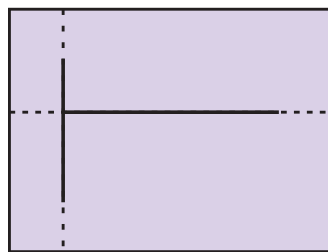
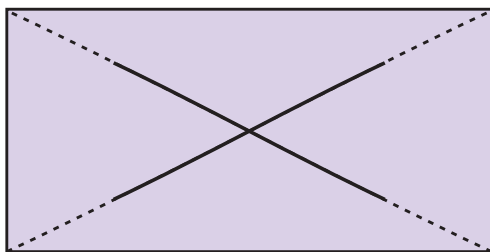
- 2) Ποιο ακόντιο θα περάσει πάνω από το εμπόδιο;

Προβλέπω: Το ακόντιο με το γράμμα .....

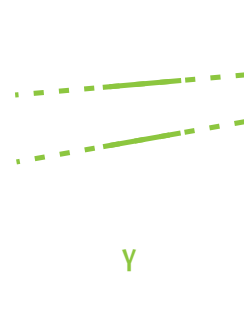
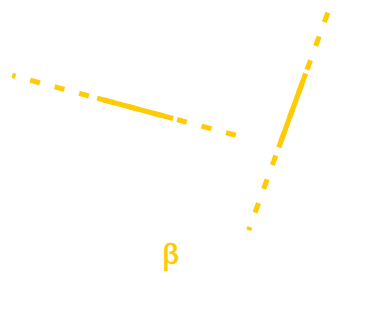
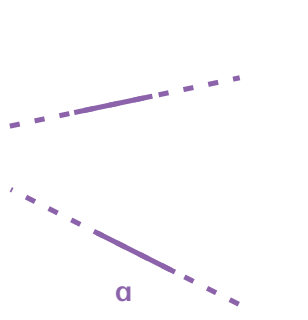
Επαληθεύω




- 3) Ποια από τα παρακάτω ζεύγη ευθειών **τέμνονται κάθετα** μεταξύ τους; Ελέγχω με  και σημειώνω με ✓.



- 4) Συναντιούνται σε κάποιο σημείο οι ευθείες; Αν μπορώ, το εντοπίζω σε κάθε μια περίπτωση.



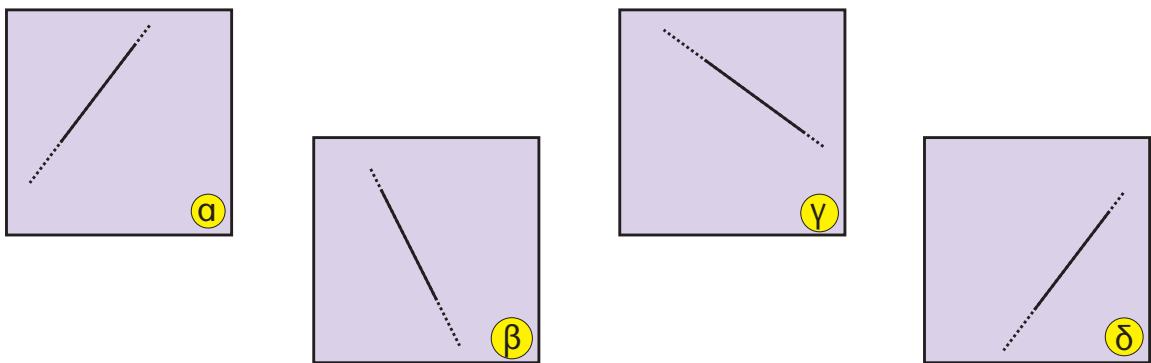
5) Τα παιδιά κρατούν κάρτες με το αρχικό γράμμα του ονόματός τους :



- Σε ποια από τα γράμματα που κρατούν τα παιδιά υπάρχουν ευθύγραμμα τμήματα που να είναι :
  - παράλληλα ( ) μεταξύ τους; .....
  - κάθετα ( ) μεταξύ τους; .....
- Το αρχικό γράμμα του ονόματός μου έχει :
  - ..... παράλληλα ευθύγραμμα τμήματα
  - ..... κάθετα ευθύγραμμα τμήματα
  - ..... τεμνόμενα ευθύγραμμα τμήματα (όχι κάθετα)

6) Ποια από τις παρακάτω ευθείες είναι :

- παράλληλη με την ευθεία στο πλαίσιο α ;
- κάθετη στην ευθεία του πλαισίου α ;



- Ελέγχω την εκτίμησή μου:
 

Αντιγράφω κάθε ευθεία, μαζί με το πλαίσιο της, σ' ένα λευκό ή διαφανές χαρτί. Εφαρμόζω το χαρτί κατάλληλα στο πλαίσιο α .