

# 26

## Διαχειρίζομαι δεκαδικούς αριθμούς

1) Ο κύριος Αλέξανδρος αγόρασε έναν εκτυπωτή και μια οθόνη. Έδωσε στο ταμείο 500 €.

- Εκτιμώ με ακέραιο αριθμό πόσα ρέστα θα πάρει : .....



269,90 €



135,95€

- Υπολογίζω με ακρίβεια τα ρέστα :

2)



Ο Πέτρος είδε κάποια ρούχα στη βιτρίνα. Ζήτησε από τη μητέρα του να του τα αγοράσει. Με ποιον από τους παρακάτω τρόπους είναι προτιμότερο να εκτιμήσει εκείνη τα χρήματα που της χρειάζονται ; Επιλέγω με ✓.



•  $20+29+74$

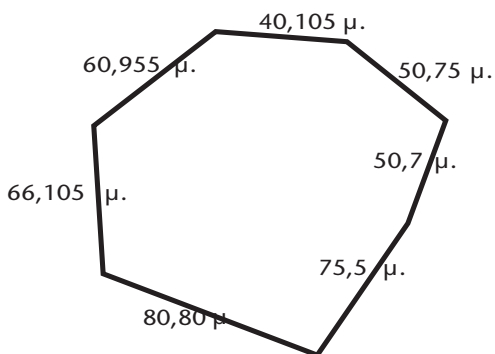
•  $21+30+75$

Εξηγούμε:.....


.....


- Με τη μέθοδο της Ηρώς υπολογίζουμε τον ακέραιο που βρίσκεται πιο κοντά στην πραγματική αξία των ρούχων.

3) Εκτιμώ την περίμετρο του επταγώνου:



- Η περίμετρος είναι περίπου ..... μ.

- 
 Συγκρίνουμε τις εκτιμήσεις μας. Έχουμε καταλήξει στο ίδιο αποτέλεσμα; Εξηγούμε : .....  
 .....

- 
 Υπολογίζω με ακρίβεια.

- 4)
- Το ταχυδρομείο παίρνει προμήθεια 70 λεπτά για την εξόφληση κάθε λογαριασμού.
  - Η μητέρα της Στέλλας έδωσε στο ταμείο 460 € και πήρε ρέστα 4,65 €. Πόσα χρήματα πλήρωσε για το λογαριασμό του ΟΤΕ ;

ΛΟΓΑΡΙΑΣΜΟΣ ΗΛΕΚΤΡΙΚΟΥ ΡΕΥΜΑΤΟΣ

ΑΝΑΛΥΣΗ ΧΡΕΩΣΕΩΝ

ΠΑΓΙΑ ΧΡΕΩΣΗ  
ΟΚΒ 612Χ0,10986ΕΥΡ/ΟΚΒ= ΜΕΙΟΝ ΑΣΙΑ ΡΕΥΜ. ΕΝΑΝΤΙ ΔΟΣΟ ΕΤΡΟΤΤ. ΠΡΟΜ/ΜΟΥ ΔΟΣ. ΕΤΡΟΤΤ/ΣΗ ΠΑΡΗΡΤΕΟΥ ΔΟΣΟΥ

ΛΟΓΑΡΙΑΣΜΟΙ ΔΗΜΟΥ - ΕΡΓ - ΚΑΠ

ΑΝΑΛΥΣΗ ΧΡΕΩΣΕΩΝ

ΔΙΔΟΥΣΑ ΤΕΛΗ - ΒΟΡΟΙ

Δ.Τ. Μ' ΕΤΡΟ/Μ' ΕΤΡΟΤ. ΜΕΡΟΝ  
Δ.Ρ. Μ' ΕΤΡΟ/Μ' ΕΤΡΟΤ. ΜΕΡΟΝ

ΤΕΛΟΣ ΑΚΙΝΗΤΗΣ ΠΕΡΙΟΥΣΙΑΣ

Μ' ΤΙΜΗ ΣΩΜΕΣ ΣΑΛΑΣΙΩΤΑ  
ΕΤΡΟΤ. Τ.Α.Δ. ΕΤΡΟΤ. ΜΕΡΟΝ

ΕΞΩΦΛΗΘΗ

ΤΕΛΙΚΟ ΠΟΣΟ ΠΛΗΡΩΜΗΣ 204,15 €

ΛΟΓΑΡΙΑΣΜΟΣ ΥΔΡΕΥΣΗΣ ΚΑΙ ΑΠΟΧΕΤΕΥΣΗΣ

ΑΝΑΛΥΣΗ ΛΟΓΑΡΙΑΣΜΟΥ

ΣΥΝΟΛΟ ΛΟΓΑΡΙΑΣΜΟΥ ΕΥΡΩ 58,40

ΠΟΣΟ ΠΛΗΡΩΜΗΣ ΣΕ ΕΥΡΩ 58,40

ΕΞΩΦΛΗΘΗ

ΛΟΓΑΡΙΑΣΜΟΣ ΤΗΛΕΠΙΚΟΙΝΩΝΙΑΚΩΝ ΤΕΛΩΝ

ΣΥΝΟΛΙΚΟ ΠΟΣΟ ΠΛΗΡΩΜΗΣ

ΕΞΩΦΛΗΘΗ

ΣΥΝΟΛΙΚΟ ΠΟΣΟ ΠΛΗΡΩΜΗΣ Ημερησίου Αξίας Πληρωμής

- Εκτιμώ : .....

- Υπολογίζω με ακρίβεια.

